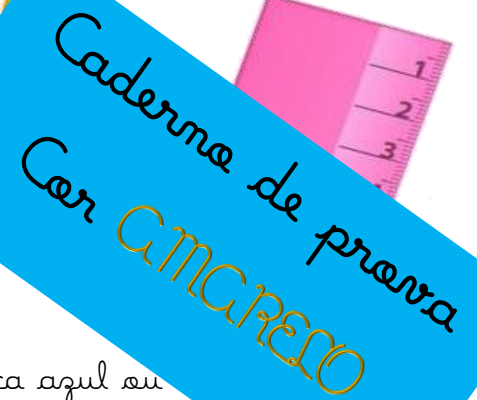




# SESP provinha



Caderno de provas  
Com **CAMPRELO**



## Instruções

- Use apenas caneta esferográfica azul ou preta.
- Escreva o seu nome completo no espaço indicado nesta folha.
- Este Caderno de Provas contém 20 (vinte) questões de múltipla escolha, sendo 10 (dez) de Língua Portuguesa e 10 (dez) de Matemática.
- Para cada questão de múltipla escolha, com quatro alternativas A, B, C e D, existe apenas uma resposta certa.

Candidato (a): \_\_\_\_\_

## Língua Portuguesa

01 - Marque com um X a sequência correta do alfabeto:


(A) a - b - c - k - l - e - f - g - d - h - i - j - m - n -  
o - p - q - r - s - t - u - v - y - w - x - z

(B) a - b - c - d - e - f - g - h - i - j - k - l - m - n -  
o - p - q - r - s - t - u - v - w - x - y - z

(C) a - b - c - d - e - f - g - h - i - j - k - l - p - q -  
r - m - n - o - s - t - u - v - w - x - y - z

(D) a - g - h - b - c - d - e - f - i - j - k - l - m - n -  
o - p - q - r - s - t - u - v - w - x - y - z

02 - Observe as figuras e marque com o X a ordem correta da escrita dos seus respectivos nomes:



(A) avião - carro - dinossauro - bola


(B) carro - avião - bola - dinossauro

(C) avião - bola - carro - dinossauro

(D) bola - avião - carro - dinossauro

03 - Responda qual é a frase que indica o que a vaca está fazendo:

- (A) A vaca beerra
- (B) A vaca deita
- (C) A vaca come mate
- (D) A vaca está dando leite



04 - Observe a parlenda e responda quantas palavras têm:

- (A) 6
- (B) 9
- (C) 8
- (D) 10



05 - Marque com um X a sílaba que começa o nome desse desenho:

- (A) ra
- (B) fa
- (C) ji
- (D) gi



06 - Observe as palavras no quadro abaixo, ordene e marque a resposta certa:

**1 – chor – ca – ro**  
**2 – li – ga – nha**  
**3 – lha – ço – pa**  
**4 – ça – ro – car**  
**5 – sou – vas - ra**

- (A) galinha – palhaço – carroça – cachorro – vassoura  
 (B) carroça – galinha – palhaço – cachorro – vassoura  
 (C) cachorro – galinha – palhaço – carroça – vassoura  
 (D) cachorro – palhaço – galinha – carroça – vassoura

07 - Quantas sílabas tem a palavra abaixo:

- (A) 6  
 (B) 5  
 (C) 4  
 (D) 7



*Chocolate*

08 - Observe as palavras e marque apenas a sequência que tem as palavras com **ch**:

- (A) chácara – xale – xícara – chuva – chamego  
 (B) chácara – xale – xícara – mese – maxixe  
 (C) chácara – chuva – chamego – cheque – chuveiro  
 (D) chácara – chuva – chamego – xale – chuveiro

09 - Veja a figura e depois faça um X onde está escrito o que você vê:

- (A) O Bob Esponja está chorando.
- (B) O Bob Esponja está gritando.
- (C) O Bob Esponja está zangado.
- (D) O Bob Esponja está sorrindo.




10 - Faça um X na palavra que começa com a mesma sílaba da palavra *macaco*:

- (A) baleia
- (B) papagaio
- (C) marie
- (D) maleta



## Matemática

11 - Quantas pipas faltam para Pinóquio ficar com a mesma quantidade de bolas que o Grilo tem?



- (A) 2
- (B) 4
- (C) 3
- (D) 6

12 - Marque a alternativa que completa a sequência:

45	46				50	51
----	----	--	--	--	----	----

- (A) 48 – 49 – 50  
 (B) 46 – 47 – 48  
 (C) 47 – 48 – 49  
 (D) 46 – 48 – 49

13 - Qual o nome do objeto que é utilizado para **pesar**:

- (A) régua  
 (B) fita métrica  
 (C) balança  
 (D) cope

14 - Qual é o resultado dessas somas?

- (A) 8  
 (B) 3  
 (C) 5  
 (D) 7

$3 + 4$

$5 + 2$

$6 + 1$



15 - Assinale a alternativa correta, quais desses produtos podemos comprar por **litro**:

- (A) feijão, leite, óleo, água  
 (B) refrigerante, leite, óleo, água  
 (C) refrigerante, carne, feijão, leite  
 (D) feijão, refrigerante, leite, óleo



16 - Se eu somar esses 5 grupos cada um com 3 unidades, qual o total de piões?



- (A) 14
- (B) 13
- (C) 15
- (D) 16

17 - Observe essa ordem crescente, e assinale qual a resposta correta:

10											
----	--	--	--	--	--	--	--	--	--	--	--

- (A) 11 – 13 – 14 – 12 – 15 – 16 – 17 – 18 – 19 – 20 – 21
- (B) 12 – 11 – 13 – 14 – 15 – 16 – 18 – 17 – 19 – 20 -21
- (C) 11 – 12 – 13 – 14 – 15 – 16 – 17 – 18 – 19 – 20 – 21
- (D) 11 – 12 – 14 – 15 – 16 – 13 – 17 – 19 – 18 – 20 – 21

18 - Resolva as subtrações, marque o X na resposta certa:

- (A) 4, 5, 6
- (B) 5, 4, 4
- (C) 5, 6, 4
- (D) 6, 5, 4

$$9 - 4 = \square$$

$$7 - 3 = \square$$

$$5 - 1 = \square$$



19 - Organize os números de maior para o menor, depois assinale com X a resposta certa:

9	5	6	12	10	3



- (A) 12, 9, 10, 6, 5, 3  
 (B) 12, 10, 9, 6, 5, 3  
 (C) 10, 12, 9, 5, 6, 3  
 (D) 10, 12, 9, 6, 5, 3

20 - Observe a tabela de brinquedos e responda qual o brinquedo que tem o menor valor:

R\$ 34,00	
R\$ 23,00	
R\$ 53,00	
R\$ 45,00	

- (A) bola  
 (B) carrinho  
 (C) boneca  
 (D) bicicleta