

Processo Seletivo para Bolsas de Estudo

Sociedade Educadora São Francisco

Leia atentamente as instruções seguintes:

1. Utilize apenas caneta esferográfica azul ou preta, feita em material transparente.
2. Escreva seu nome completo no local indicado nesta página.
3. Este Caderno de Questões contém 40 questões (20 de Língua Portuguesa e 20 de Matemática) numeradas de 01 a 40.
4. Para cada uma das questões objetivas são apresentadas 4 opções (a, b, c, d). Apenas uma corresponde corretamente à questão.
5. O tempo disponível para estas provas é de quatro horas.

 **provinha** SESF

PROCESSO SELETIVO | SESF 2020



SOCIEDADE EDUCADORA
SÃO FRANCISCO
a melhor educação

Nome: _____

Para Bolsas de 1^ª Anos

Lingua Portuguesa

1- Cussinale a alternativa que corresponde corretamente com a sequência vocálica maiúscula:

- a) E, O, U, A, J
- b) G, E, J, O, U
- c) U, O, J, E, G
- d) J, G, U, E, O

2- Cussinale a alternativa que corresponde aos encontros vocálicos das imagens:



- a) ai, ui
- b) ai, ei
- c) ai, eu
- d) eu, ui

3- Cussinale a sequência correta do alfabeto minúsculo:

- a) a, b, c, d, e, f, g, h, i, j, k, l, m, n, o, p, q, r, s, t, u, v, w, x, y, z
- b) z, y, x, w, v, u, t, s, r, q, p, o, n, m, l, k, j, i, h, g, f, e, d, c, b, a
- c) g, f, e, d, c, b, a, h, i, j, k, l, m, n, o, p, q, r, s, t, u, v, w, x, y, z
- d) a, b, c, e, f, g, d, h, i, j, k, l, m, n, o, p, q, r, s, t, u, v, w, x, y, z

4- Qual consoante essa família silábica corresponde:

fa	fe	fi	fo	fu
----	----	----	----	----

- a) b
- b) c
- c) d
- d) f


5- Marque um X na alternativa que corresponde a família silábica inicial destas imagens:



- a) ca, ce, ci, ce, cu
- b) ta, te, ti, te, tu
- c) da, de, di, de, du
- d) ga, ge, gi, ge, gu

6- Qual destas alternativas corresponde com a família que se inicia e nome das imagens:

- a) fa, ba, di
- b) di, fa, gi
- c) di, fe, gi
- d) fe, di, ga



7- Leia e em seguida responda quais as palavras que tem **CH** e assinale a alternativa correta:

Chii...

Que bicho é este?

É o bicho cochicho.

Ele vive na chaminé.

Usa um chapéu chinês.

Calça chuteira em um pé,

e me soute um chinelo, francês.

Pois eu acho que foi este bicho,

que tem nome de cochicho,

que comeu minha empada e

ficou de barriga inchada.

- a) bicho, este, coquinho, chaminé, chapéu, chinês, pé, chinele, barriga
- b) bicho, cada, coquinho, chaminé, chapéu, chinês, pé, chinele, barriga
- c) bicho, coquinho, chaminé, chapéu, chinês, chuteira, chinele, ache, inchada
- d) bicho, este, coquinho, chaminé, chapéu, chinês, pé, chinele, inchada

8- De acordo com o texto assinale onde vive o bicho coquinho:

- a) na chaminé
- b) na casa
- c) na fazenda
- d) No sítio

9- Qual destas alternativas completa a frase abaixo:

A _____ é grande e vermelha.

- a) bezerra
- b) carreta
- c) derrubadas
- d) Cabelha

10 - Separe as sílabas da palavra abaixo, e veja a quantidade de sílabas e marque a resposta certa:

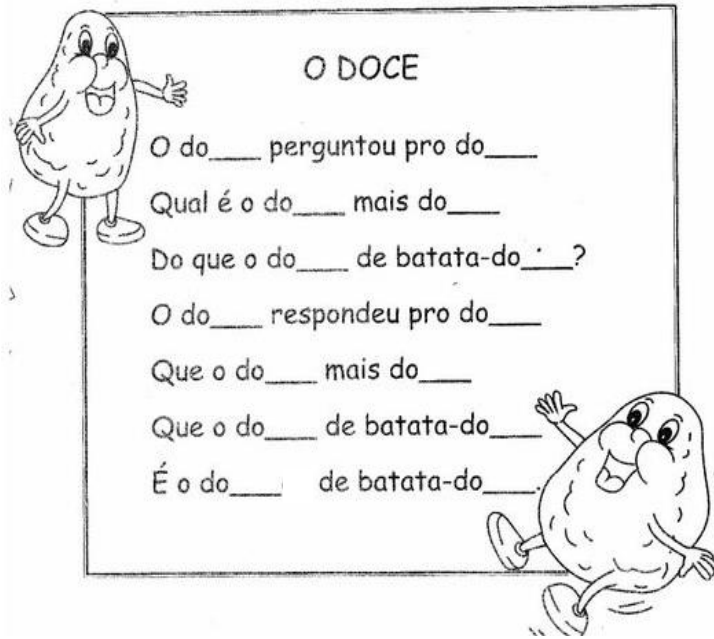


- a) 3
- b) 5
- c) 4
- d) 6

11- Marque um X na alternativa que mostra a frase na ordem correta:

- a) O gato lá brinca rolo e com
- b) com e rolo de lá brinca o gato
- c) O gato brinca com o rolo de lá
- d) A rã nasceu muito alta

12 - Leia e observe qual é a sílaba que está faltando:



- a) ge
- b) je
- c) le
- d) ce

13 - Veja abaixo a palavra e ordene-a :

ter - be - ba - ra

- a) beterraba
- b) barragem
- c) bezerra
- d) terreno

14 - Quais das alternativas abaixo as palavras começam com a sílaba sa:

- a) sacola - suco - salada
- b) sede - sacola - salada
- c) sape - sede - salada
- d) sape - sacola - salada

15 – Assinale a alternativa que os desenhos tem a mesma sílaba inicial:



PANELA



PASSARINHO



GALINHA



FAZINHA

- a) panela, passarinho, galinha
- b) panela, passarinho, fazinha
- c) galinha, panela, fazinha
- d) panela, galinha, gale

16 – Quais vogais iniciam os nomes dos desenhos abaixo:



- a) a, e, i
- b) e, e, i
- c) e, i, e
- d) i, e, u

17 – Observe os nomes dos animais abaixo e assinale a alternativa que eles estão com os nomes separados em sílabas:

- a) va - ca ; ca - va - le
- b) va - ca ; ca - cher - re
- c) ca - cher - re ; va - se
- d) va - ca ; va - se



18 – Substitua o desenho pelo seu nome nas frases abaixo e marque a resposta certa:

O macaco comeu a _____.



A _____ é bela.



O _____ é do menino.



- a) lua, banana, casa
- b) boné, lua, cano
- c) banana, lua, boné
- d) boné, banana, louca

19 – Observe os nomes das frutas abaixo e marque o X na alternativa correta:



- a) abacate, melancia
- b) abacate, melão
- c) abacate, morango
- d) abacate, maçã

20 – Quais as letras que iniciam o nome de cada desenho abaixo:



- a) p, q, r, s
- b) e, p, q, r
- c) s, t, u, p
- d) e, q, r, s

Matemática

21- Assinale a alternativa correta. Qual número vem antes e depois de 8?

- a) 7 e 9
- b) 5 e 7
- c) 4 e 5
- d) 6 e 9

22- Quantos doces tem na imagem abaixo, assinale a alternativa correta:



- a) 9
- b) 12
- c) 10
- d) 11

23- Na ordem numérica, assinale a alternativa que indica a família de número 20:

- a) 11, 12, 13, 14, 15, 16, 17, 18, 19
- b) 1, 2, 3, 4, 5, 6, 7, 8, 9, 10
- c) 21, 22, 23, 24, 25, 26, 27, 28, 29
- d) 0, 1, 2, 3, 4, 5, 6, 7, 8, 9

24- Observe a soma abaixo e assinale a alternativa que corresponde com o resultado:

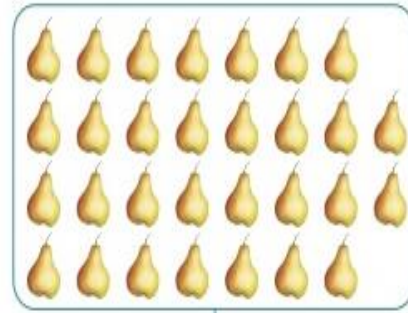

$$9 + 7 =$$

- a) 17
- b) 10
- c) 18
- d) 16

25- Lucas foi ao parque e comprou 3 pirulites, ao sair para voltar a sua casa ele comprou mais 5. Com quantos pirulites Lucas ficou?

- a) 7
- b) 8
- c) 9
- d) 10

26- Conte a quantidade de frutas em cada conjunto e assinale a alternativa correta:



- a) 24 e 31
- b) 23 e 30
- c) 24 e 30
- d) 25 e 31

27- Observe os desenhos abaixo e assinale com quais sólidos geométricos eles se relacionam:




- a) cone e esfera
- b) cubo e esfera
- c) esfera e cubo
- d) cone e cubo

28- Assinale o resultado correto da subtração abaixo:

$$8 - 5 = \underline{\quad}$$

- a) 2
- b) 3
- c) 9
- d) 7

29- Observe as formas geométricas abaixo e assinale a alternativa com as mesmas corretas de cada uma delas:



- a) Retângulo, paralelepípedo, cone, esfera
- b) Círculo, quadrado, retângulo, triângulo
- c) Paralelepípedo, cone, triângulo, esfera
- d) Círculo, quadrado, retângulo, cone

30- Assinale a alternativa da sequência correta dos sólidos geométricos abaixo:



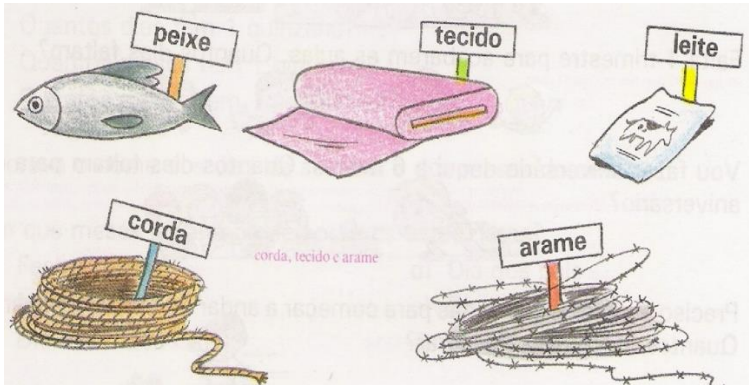
- a) cubo, esfera, paralelepípedo, pirâmide, cilindro
- b) cubo, paralelepípedo, cone, cilindro, esfera
- c) cubo, cone, paralelepípedo, cilindro, esfera
- d) cubo, esfera, paralelepípedo, cone, cilindro

31- Observe as imagens abaixo, e assinale quais delas compramos por quilo:



- a) leite, arroz e maçã.
- b) arroz, maçã e óleo
- c) arroz, maçã e carne
- d) arroz, maçã e suco

32- Cussinale com o X e que podemos compramos por metro:



- a) peixe, tecido e corda
- b) peixe, tecido e leite
- c) tecido, corda e leite
- d) tecido, corda e arame

33 - Vamos ajudar Sofia nas compras. Observe as imagens e assinale a alternativa e que podemos comprar por litro



- a) leite, farinha, suco, refrigerante, água
- b) leite, azeite, suco, água, refrigerante
- c) leite, farinha, suco, água, refrigerante
- d) leite, ovos, suco, água, azeite

34 – Decomponha o numeral 53 e coloque no quadro de valor os números e marque a alternativa correta:

- a) 5 dezenas e 4 unidades
- b) 5 dezenas e 6 unidades
- c) 5 dezenas e 3 unidades
- d) 6 dezenas e 3 unidades

D	U

35 – Complete a sequência e marque a alternativa correta:

	9			
--	---	--	--	--

- a) 8, 10, 11, 12
- b) 8, 9, 10, 11
- c) 9, 10, 11, 12
- d) 8, 9, 10, 12

36 – Resolva as contas e assinale a alternativa correta:

$\begin{array}{r} 5 \\ +4 \\ \hline \end{array}$	$\begin{array}{r} 2 \\ +7 \\ \hline \end{array}$	$\begin{array}{r} 6 \\ +1 \\ \hline \end{array}$	$\begin{array}{r} 9 \\ +0 \\ \hline \end{array}$
--	--	--	--


- a) 9, 8, 7, 9
- b) 9, 10, 7, 8
- c) 9, 9, 7, 9
- d) 9, 9, 8, 9

37 – Responda qual é o número que vem antes e o número que vem depois:

___ 45	62 ___
--------	--------

- a) 44, 66
- b) 43, 63
- c) 44, 63
- d) 42, 64

38 – Responda e assinale a alternativa correta:



- a) 88 e 92
- b) 88 e 90
- c) 87 e 90
- d) 88 e 91

39 – Observe as centimhas e marque a alternativa correta:

- a) 2, 3, 4, 1
- b) 2, 4, 3, 1
- c) 3, 2, 4, 1
- d) 2, 1, 4, 2

$5 - 3 =$

$5 - 4 =$

$5 - 1 =$

$3 - 1 =$



40 – Mamãe foi a feira e comprou 6 maçãs, mais em casa já ainda tinha 3 maçãs. Com quantas maçãs fiquei no total. Responda a alternativa correta:



- a) 8
- b) 3
- c) 9
- d) 7