




# provinha



Caderno de provas  
Cód. 0202


## Instruções

- Use apenas caneta esferográfica azul ou preta.
- Escreva o seu nome completo no espaço indicado nesta folha.
- Este Caderno de Provas contém 20 (vinte) questões de múltipla escolha, sendo 10 (dez) de Língua Portuguesa e 10 (dez) de Matemática.
- Para cada questão de múltipla escolha, com quatro alternativas A, B, C e D, existe apenas uma resposta certa.

Candidato (a): \_\_\_\_\_

## Língua Portuguesa

Leia o texto e responda.



Ouve só...

O meu cavalinho branco  
Usava sempre tamanco.  
Ele vivia mancando,  
Caindo e tropeçando.  
Então trocou o tamanco  
Por pedacinhos de lua.  
A cemeira esberrachou  
Bem lá no meio da rua.  
Ai trocou o tamanco pela  
Cemeirinha crua.  
A cemeira esberrachou  
Bem lá no meio da rua.  
Trocou, por fim o tamanco  
Por ferradura que é dura  
Ouve só o barulhinho  
Das patas do cavalinho...

Maria Mazzetti

1. O que o cavaleiro branco usava sempre?

- (A) Tamancos
- (B) Bota
- (C) Esperas
- (D) Ferradura

2. Qual o tipo de calçado o cavaleiro usava?

- (A) Ferradura
- (B) Esperas
- (C) Sapatos
- (D) Chinelos



3. Quantas consoantes tem a palavra *cavaleiro*?

- (A) 3
- (B) 4
- (C) 6
- (D) 5

4. O nosso alfabeto é formado por letras. Quantas letras ele tem?



- (A) 23
- (B) 16
- (C) 26
- (D) 13

5. Observe as palavras abaixo:


*Pinheiro – acordar – quase – banheiro – danone – sapato*

Assinale a alternativa em que as palavras foram escritas em ordem alfabética.

- (A) Pinheiro, sapato, danone, quase, acordar, banheiro.  
 (B) Acordar, banheiro, danone, pinheiro, quase, sapato.  
 (C) Banheiro, danone, pinheiro, quase, acordar, sapato.  
 (D) Sapato, pinheiro, danone, quase, banheiro, acordar.

6. A palavra *cavalinho* é classificada como:

- (A) Diminutivo  
 (B) Aumentativo  
 (C) Dinâmica  
 (D) Antônima



7. Sobre a frase: "Qual deles é você?" É correto afirmar que a frase é:

- (A) Afirmativa  
 (B) Exclamativa  
 (C) Interrogativa  
 (D) Negativa



8. A frase em destaque está classificada em:

*"Os memes estão se divertindo bastante."*

- (A) Singular  
 (B) Plural  
 (C) Dinâmica  
 (D) Antônima

Leia a tirinha e responda a questão.



9. De acordo com a tirinha, o Cebolinha ficou com raiva do anjo porque:

- (A) Ele caiu no chão.
- (B) O anjo e ele apanharam da Mônica.
- (C) A Mônica foi embora.
- (D) Ele chorou.

Leia a tirinha e responda a questão.



10. No texto, Magali estava chorando por que:

- (A) Não gostava de aniversário.
- (B) Ela pensou que o bolo era de verdade.
- (C) O bolo era pequeno.
- (D) Não queria comer o bolo.

## Matemática

11. Marque com **X** a alternativa que corresponde aos números naturais abaixo em algarismo romano.

13 – 25 – 30 – 45

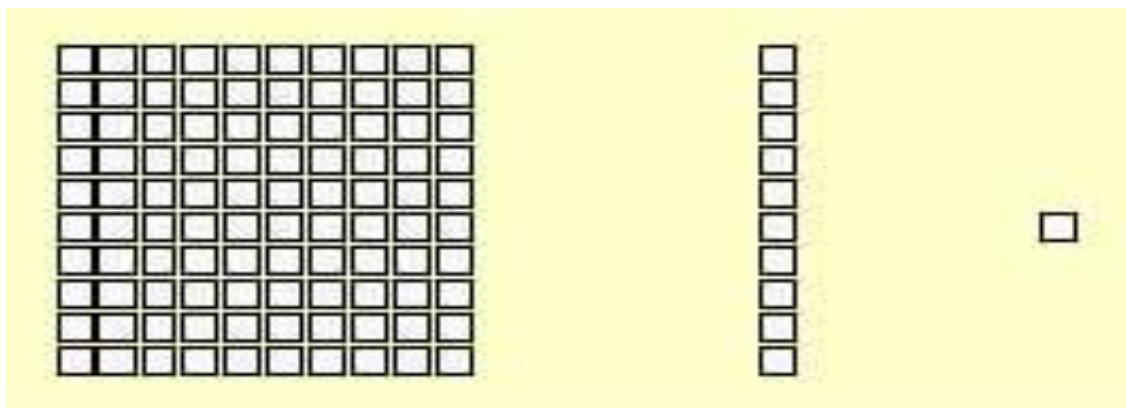
- (A) X, V, X, L  
 (B) XIII, XXV, XXX, XLV  
 (C) XXX, XII, XXD, L  
 (D) X, L, LD, X

12. Marque com **X** a alternativa que corresponde aos números romanos abaixo em números naturais.

**XX – L – XL – LV**

- (A) 10, 70, 65, 5  
 (B) 12, 34, 56, 1  
 (C) 20, 50, 40, 55  
 (D) 1, 5, 7, 90

13. Observe a imagem, conte quantos quadradinhos tem e marque a alternativa correta.



- (A) 2 centenas, 1 dezena e 1 unidade.  
 (B) 1 centena, 1 dezena e 1 unidade.  
 (C) 3 centenas, 2 dezenas e 1 unidade.  
 (D) 0 centena, 1 dezena e 0 unidades.

14. Marque com X a alternativa que apresenta apenas números ímpares.

(A) 2, 3, 4, 5, 6.

(B) 4, 44, 20, 12.

(C) 3, 5, 7, 13.

(D) 2, 56, 67, 4.


15. Observe o dado numérico e marque a alternativa que indica se os números em suas faces são ímpares ou pares.

(A) Pares

(B) Ímpares e pares.

(C) Ímpares

(D) Nenhuma das alternativas.



16. Cláudia levou 34 pães para a festa de aniversário de Rui, chegando lá já tinha 65. Quantos pães tinha na festa de Rui?

(A) 120

(B) 99

(C) 97

(D) 102



17. Júlia tem 34 anos, seu irmão Jonas tem 45 anos. Quantos anos Jonas tem a mais que Júlia?

(A) 10 anos

(B) 11 anos

(C) 09 anos

(D) 13 anos

18. Uma loja vende 20 aparelhos celulares por dia. Quantos celulares a loja vai vender em uma semana? (Lembre-se que uma semana tem 7 dias)

- (A) 200
- (B) 140
- (C) 70
- (D) 130

19. Jorge comprou 6 pacotes de figurinhas com 10 figurinhas cada um. Seu irmão, Mateus, comprou 4 pacotes com 5 figurinhas cada um. Quantas figurinhas os dois compraram no total?

- (A) 80 figurinhas.
- (B) 45 figurinhas.
- (C) 100 figurinhas.
- (D) 94 figurinhas.



20. Para participar de uma gincana escolar, cada grupo deve ter 6 alunos. Em uma sala com 36 alunos, quantos grupos podem ser formados?

- (A) 2 grupos.
- (B) 4 grupos.
- (C) 6 grupos.
- (D) 4 grupos.

