




SESP provinha



Caderno de prova
Cor VERDE



INSTRUÇÕES

- Use apenas caneta esferográfica azul ou preta.
- Escreva o seu nome completo no espaço indicado nesta folha.
- Este Caderno de Provas contém 20 (vinte) questões de múltipla escolha, sendo 10 (dez) de Língua Portuguesa e 10 (dez) de Matemática.
- Para cada questão de múltipla escolha, com quatro alternativas A, B, C e D, existe apenas uma resposta certa



Candidato (a): _____

Língua Portuguesa

Texto 1

O Vendedor



(LAERTE. *Classificados*. São Paulo: Devir, 2001. p.6)

1- Nos dois primeiros quadros da tira, percebe-se que o menino:

- (A) aceita logo a oferta do homem.
- (B) discute o preço das balas com o homem.
- (C) negocia o preço da sua mercadoria.
- (D) oferece a sua mercadoria aos gritos.

2- O recurso utilizado na tira para apresentar a fala dos personagens é:

- (A) o gesto.
- (B) a cor.
- (C) o tipo de letra.
- (D) o balão.

3- A fala do menino, no último quadro da tira, sugere:

- (A) aborrecimento.
- (B) bondade.
- (C) preconceito.
- (D) inveja.

4- No segundo quadro da tira, a fala do menino marcada com um duplo ponto de exclamação, reforça:

- (A) a irritação com o trabalho.
- (B) o desinteresse pela venda.
- (C) o apelo para ender.
- (D) a pressa em vender.

Texto 02

O LOBO E O BURRO

Um burro estava comendo quando viu um lobo escondido espiando tudo o que ele fazia. Percebendo que estava em perigo, o burro imaginou um plano para salvar a pele.



Fingiu que era aleijado e saiu mancando com a maior dificuldade. Quando o lobo apareceu, o burro, todo choroso, contou que tinha pisado num espinho pontudo.

— Ai, ai, ai! Por favor, tire o espinho de minha pata! – implorou – Se você não tirar, ele vai espetar sua garganta quando você me engolir.

O lobo não queria se engasgar na hora de comer seu almoço, por isso quando o burro levantou a pata ele começou a procurar o espinho com todo o cuidado. Nesse momento o burro deu o maior coice de sua vida e acabou com a alegria do lobo. Enquanto o lobo se levantava todo dolorido, o burro galopava satisfeito para longe dali.

Moral da história: Tenha cuidado com os favores inesperados, pois eles podem esconder segundas intenções

Fonte: "Fábulas de Esopo"

5- Leia novamente o seguinte trecho da fábula:

Ai, ai, ai! Por favor, tire o espinho de minha pata! _ **implorou** .Se você não tirar, ele vai espetar sua garganta quando você me engolir.

No trecho a palavra **implorou** se refere a:

- (A) pediu.
- (B) falou.
- (C) sorriu.
- (D) pensou.

6- Leia novamente o seguinte trecho da fábula:

“Se você não tirar, **ele** vai espetar sua garganta quando você me engolir”.

Nesse trecho a palavra **ele** se refere a:

- (A) ao lobo.
- (B) ao burro.
- (C) ao coice.
- (D) ao espinho.

7- Marque a opção em que todas as palavras possuem hiato:

- (A) poeira, apareceu, ingênuo.
- (B) curiosidade, dias, pessoas.
- (C) veio, notícia, meio.
- (D) começou, aumentava, tremeu.

8- Na frase: “ Por que você tem tantos **cabelos** brancos, **mamãe**? “ As palavras destacadas são:

- (A) Substantivos simples e compostos.
- (B) Substantivos simples.
- (C) Substantivos derivado.
- (D) Nenhuma das anteriores.

Analise a tirinha a seguir para responder a questão 9.



9- Marque a opção em que todas as palavras possuem encontro vocálico.

- (A) polícia, ladrão, urgentemente.
- (B) canário, passar, alfândega.
- (C) prendeu, descobriu, escondido.
- (D) história, tentou, roubar.

10- Escreva a opção em que o plural dos substantivos estão escritos corretamente.

- (A) irmãos, cães, mãos.
- (B) órgãos, grãos, gaviãos.
- (C) mamãos, limões, regiões.
- (D) guadiãos, capitães, leões.

Matemática


11- Rita trabalha em uma mercearia. Veja as notas que ela tinha em seu caixa ao final do dia.



Ao final do dia, quantos reais, no total havia no caixa de Rita?

- (A) R\$ 170,00
- (B) R\$ 180,00
- (C) R\$ 270,00
- (D) R\$ 280,00


12- Marque com um X os elementos que **NÃO** pertencem ao conjunto O.



- (A) dado e flor.
- (B) flor e olho.
- (C) dado e ovo.
- (D) flor e ovelha.

13- Em uma viagem de avião, 284 passageiros voaram na primeira classe e 452 passageiros voaram na segunda classe. Quantos passageiros estavam nessa viagem?

- (A) 284
- (B) 452
- (C) 636
- (D) 736



14 - Para uma competição de corrida com obstáculos, o professor de educação física formou equipes, arrumando os alunos em 4 filas, com 7 alunos em cada fila. Ao todo, ele arrumou?

- (A) 11 alunos.
- (B) 21 alunos.
- (C) 24 alunos.
- (D) 28 alunos.



15 - No cartaz da festa junina está a lista de preços de algumas comidas para serem vendidas durante a festa.



Observando os preços podemos dizer que a comida mais cara é:

- (A) a canjica.
- (B) a pipoca.
- (C) o cachorro quente.
- (D) o milho.

16 - Os participantes de um jogo de bingo precisavam de uma linha completa para ganhar o prêmio.

B I N G O				
7	25	44	57	62
15	22	40	50	70
11	30	39	46	74

Na cartela acima, o participante deixou de ganhar por apenas um número. O número que faltou, para este participante ganhar, pode ser representado no sistema de numeração decimal por:

- (A) 1 dezena e 9 unidades.
- (B) 5 dezenas e 7 unidades.
- (C) 5 dezenas e 9 unidades.
- (D) 7 dezenas e 5 unidades.

17 - Na brincadeira, cada criança joga 3 bolas para tentar acertar a boca do palhaço. Paulo acertou 3 bolas na boca do palhaço. Cada acerto vale 5 pontos. Quantos pontos Paulo marcou?

- (A) 5 pontos.
- (B) 8 pontos.
- (C) 15 pontos.
- (D) 18 pontos.



18 – O quadro abaixo mostra os pontos conquistados por quatro pilotos no campeonato de Fórmula Jovem.

PILOTOS	PONTOS
Pesado	111
Chuma	92
Raico	109
Rubão	99

Quem ganhou esse campeonato?

- (A) Pesado.
- (B) Chuma.
- (C) Raico.
- (D) Rubão.

19 - Abaixo está representado o corredor onde se localiza a sala de aula de Fabiana. Para chegar a sua sala de aula, ela deve subir a escada, seguir em frente pelo corredor e entrar na 2ª porta á esquerda.

- (A) I
- (B) II
- (C) V
- (D) VI



20 – Para a pescaria, as professoras tiveram que confeccionar 50 peixes, em dois dias. Ao final do primeiro dia, fizeram 32 peixes. Quantos peixes foram feitos no segundo dia?

- (A) 10 peixes.
- (B) 18 peixes.
- (C) 27 peixes.
- (D) 37 peixes.



revistacrescer.globo.com/Revista/Crescer/0,E...