

PRO SESF 2023

Para Bolsas do 7º Ano

Leia atentamente as instruções seguintes:

1. Utilize apenas caneta esferográfica azul ou preta, feita em material transparente.
2. Escreva seu nome completo no local indicado nesta página.
3. Escreva no local indicado na FOLHA DE RESPOSTAS a cor do seu CADERNO DE QUESTÕES.
4. Este CADERNO DE QUESTÕES contém 40 questões (10 de Língua Portuguesa, 10 de Matemática, 05 de ciências, 05 de História, 05 de Geografia e 05 de Língua Inglesa) numeradas de 01 a 40 e a Proposta de Redação.
5. Confira se a quantidade e a ordem das questões do seu CADERNO DE QUESTÕES estão de acordo com as instruções anteriores. Caso o caderno esteja incompleto, tenha defeito ou apresente qualquer divergência, comunique ao aplicador da sala para que ele tome as providências cabíveis.
6. Para cada uma das questões objetivas são apresentadas 4 opções (a, b, c, d). Apenas uma corresponde corretamente à questão.
7. O tempo disponível para estas provas é de quatro horas.
8. Reserve um tempo para marcar seu FOLHA DE RESPOSTAS. Os rascunhos e as marcações assinaladas no CADERNO DE QUESTÕES não serão considerados na avaliação.
9. Somente serão corrigidas redações transcritas na FOLHA DE REDAÇÃO.
10. Quando terminar as provas, acene para chamar o aplicador e entregue este CADERNO DE QUESTÕES e o FOLHA DE RESPOSTAS e FOLHA DE REDAÇÃO.
11. Você poderá deixar o local de prova somente após decorrida uma hora do início da aplicação e poderá levar seu CADERNO DE QUESTÕES ao deixar em definitivo a sala de prova após decorridas duas horas do início da aplicação.

Nome do aluno

TEXTO 1

A COPA DO MUNDO

A Copa do Mundo é um campeonato de futebol que acontece a cada 4 anos. Instituída em 1928 na França por Jules Rimet, só teve início em 1930 no Uruguai, cuja seleção desse país saiu vencedora. É considerado o evento esportivo mais assistido e valorizado em todo planeta, ultrapassando até mesmo os jogos olímpicos. Esse evento internacional tem um impacto positivo no crescimento de determinados setores e no desenvolvimento do país anfitrião, pois instalações desportivas, incluindo estádios, estradas, aeroportos, hotéis e demais edificações são construídos ou remodelados para a ocasião.

Em média, 200 seleções participam das eliminatórias da copa (evento que acontece em todo planeta), entretanto, apenas 32 países têm seus times classificados e participam. Contudo, a Fifa (Federation International Football Association) anunciou que a partir de 2026 o torneio terá 48 seleções. O Brasil é único que nunca ficou de fora desse campeonato mundial. O país anfitrião não precisa participar das eliminatórias da copa, já que sediará o evento.

Geralmente, a Copa do Mundo acontece nos meses de junho e julho, todavia, em decorrência das altas temperaturas no país sede, mesmo com tecnologia pioneira de resfriamento dos estádios, em 2022, a copa ocorrerá nos meses de novembro e dezembro (para evitar as temperaturas próximas de 50 °C). A copa deste ano diferirá também porque será a primeira no oriente médio: Qatar (país menor que Sergipe, mas muito rico, graças ao petróleo). A Fifa é o órgão responsável em conduzi-la, e já definiu os grupos através de sorteios. O Brasil, comandado por Tite, está no grupo G, cujos adversários são Sérvia, Suíça e Camarões. Habitualmente, 23 jogadores são convocados, entretanto, outra mudança nesta copa foi a quantidade, a Fifa permitiu que esse número subisse para 26 jogadores selecionados para a competição.

Ao se tratar de futebol, o Brasil é referência mundial, já que soma 5 títulos como nenhuma outra seleção do planeta. Além disso, o Rei do Futebol é daqui: Edson Arantes do Nascimento, o Pelé, considerado o melhor jogador de todos os tempos. O Brasil foi sede de duas Copas do Mundo (1950 e 2014) e grandes jogadores, como, Pelé, Rivelino, Romário, Bebeto, Ronaldo, Ronaldinho, Cafu, entre outros, trouxeram conquistas futebolistas e alegrias para o povo brasileiro.

Sobre a Copa do Mundo, o Papa Francisco (líder católico) escreveu: “A minha esperança é que, além de festa do esporte, esta Copa do Mundo possa tornar-se a festa da solidariedade entre os povos. Isso supõe, porém, que as competições futebolísticas sejam consideradas por aquilo que no fundo são: um jogo e, ao mesmo tempo, uma ocasião de diálogo, de compreensão e de enriquecimento humano recíproco. O futebol pode e deve ser uma escola para a construção de uma ‘cultura do encontro’, que permita a paz e a harmonia entre os povos.” A mensagem do pontífice só revela a essência do esporte: instrumento para comunicar valores que promovem o bem da pessoa humana e ajudam na construção de uma sociedade mais pacífica e fraterna.


Disponível em: <https://www.tudosaladeaula.com/copa-do-mundo-html>

TEXTO 2



1. Sobre as informações contidas no TEXTO 1, assinale a alternativa FALSA:
 - a) É um evento mundial que acontece periodicamente em países diferentes.
 - b) É uma competição organizada pela Federação Internacional de Futebol e surgiu em 1930.
 - c) É um torneio que envolve diversas modalidades e acontece a cada 4 anos.
 - d) É um campeonato que envolve mudanças estruturais no país anfitrião.
2. No trecho “Grandes jogadores, como, Pelé, Rivelino, Romário, Bebeto, Ronaldo, Ronaldinho, Cafu, entre outros, trouxeram conquistas futebolistas e alegrias para o povo brasileiro.”, o verbo indica
 - a) A 3ª pessoa do singular no pretérito imperfeito do indicativo.
 - b) A 3ª pessoa do singular no pretérito perfeito do indicativo.
 - c) A 3ª pessoa do plural no pretérito imperfeito do indicativo.
 - d) A 3ª pessoa do plural no pretérito perfeito do indicativo.
3. Marque a alternativa VERDADEIRA referente ao TEXTO 1:
 - a) Em geral, apenas 32 seleções participam das eliminatórias da copa do mundo.
 - b) A seleção do país anfitrião precisa vencer as eliminatórias para sediar o evento.
 - c) A Fifa e a CBF são instituições esportivas que definem regras da Copa do Mundo.
 - d) As eliminatórias permitiram escolher as 31 seleções para a copa do mundo de 2022.
4. De acordo com o TEXTO 1, em que ano e em qual continente o Brasil ganhou o 5º título do campeonato, tornando-se o único pentacampeão da Copa do Mundo?
 - a) 2002, na Europa.

- b) 2002, na Ásia.
c) 1998, na América.
d) 2006, na África.
5. O pronome de tratamento está empregado incorretamente em:
- a) Espera-se que, no Brasil, Sua Santidade, o Papa Francisco, seja recebido, com o devido respeito, pelos jovens.
b) Senhor Chefe do Departamento de Pessoal, dirijo-me a Vossa Excelência, para solicitar o abono de minhas faltas.
c) O advogado assim se pronunciou perante o juiz: - Peço a Vossa Senhoria que ouça o depoimento desta nova testemunha.
d) Vossa Majestade, a princesa da Inglaterra, foi homenageada por ocasião do seu aniversário.
6. Indique a sequência incorreta sobre os tempos verbais
- a) O pretérito perfeito do indicativo expressa uma ação pontual, definida, totalmente concluída.
b) O pretérito imperfeito do indicativo expressa uma ação durativa, que ocorreu mais de uma vez, ou que costumava acontecer habitualmente no passado.
c) O pretérito mais-que-perfeito do indicativo expressa uma ação no passado ocorrida antes de outra ação também no passado.
d) O futuro do presente do indicativo expressa um fato que aconteceria se outro fato acontecesse.
7. Na frase: "Minha prima, a Rosângela, é casada com o Miguel que é primo de um amigo meu que mora ao lado da minha casa" Na frase, há:
- a) 2 artigos definidos e 1 artigo indefinido
b) 2 artigos definidos e 1 artigo indefinido
c) 1 artigo definido e 1 artigo indefinido
d) 2 artigos definidos e 2 artigos indefinidos
8. De acordo com o TEXTO 1, assinale a alternativa FALSA sobre o futebol
- a) É o esporte coletivo mais praticado no mundo.
b) É disputado por duas equipes, de 11 jogadores.
c) A partida se divide em dois tempos de 45 minutos.
d) É um esporte de rede cujo objetivo é fazer gols.
9. Na frase "Mãe tinha **dois** filhos **lindos**", as palavras dois e lindos referem-se a filhos. A que classe gramatical pertence cada uma das palavras destacadas?
- a) Substantivo epiceno – numeral
b) Numeral- adjetivo
c) Substantivo masculino – numeral
d) Adjetivo – substantivo



10. A tipologia é definida a partir da forma como um texto se apresenta. No TEXTO 2, a tipologia textual é narrativa, isso se justifica porque o texto do Menino Maluquinho
- Apresenta a descrição da copa do mundo.
 - Defende a ideia em fazer um evento esportivo.
 - Conta uma história envolvendo alguns personagens.
 - Reúne informações de maneira coerente e imparcial.
11. Pronomes _____ são aqueles que acompanham ou substituem o substantivo, indicando a relação de posse entre as pessoas do discurso e as coisas possuídas. A alternativa que preenche a lacuna é
- Pessoal do caso reto
 - Indefinido
 - Possessivo
 - Interrogativo.
12. No primeiro quadrinho, o Menino Maluquinho aparece muito satisfeito porque
- Vai construir muitos campos de futebol.
 - Sua amiga está pronta para lhe ajudar.
 - Acredita que realizará uma copa na cidade.
 - Confia que a copa contribuirá para a natureza.
13. Leia os itens quanto ao numeral e aponte a alternativa correta.
- I- Numeral é a palavra que se relaciona ao substantivo, exprimindo indicações numéricas dos seres.
- II - As indicações numéricas dos seres referem-se à quantidade, ordem, multiplicação e fração.
- III - Os numerais cardinais expressam a ordem dos seres em uma série.
- IV - Os numerais multiplicativos expressam aumentos proporcionais de uma quantidade, multiplicações.
- V- Os numerais fracionários expressam diminuições proporcionais de uma quantidade, divisões ou frações.
- Apenas I, II, IV e V estão corretos.
 - Apenas I, III e V estão corretos.
 - Apenas II, III, IV e V estão corretos.
 - Apenas I, III e IV estão corretos.
14. No TEXTO 2, Carolina afirma que é uma militante ecologista. Isso significa que Carolina
- Defende ativamente a natureza.
 - Pertence a um partido político.
 - Realiza ações solidárias na cidade.
 - Trabalha para uma instituição.

15. No segundo quadrinho, contido no TEXTO 2, o Menino Maluquinho parece estar
- Realizado.
 - Irritado.
 - Exaltado.
 - Frustrado.
16. Sobre os adjetivos, é correto afirmar:
- Classe de palavra invariável que modifica o sentido do verbo, do substantivo e do artigo.
 - Classe de palavras que se caracteriza por delimitar o substantivo, atribuindo-lhe qualidades, estados, aparência etc.
 - Classe de palavra que vem antes do substantivo, indicando se ele é do singular ou plural.
 - Conjuntos de qualidades que, em uma determinada frase, desempenham valor de um verbo.
17. De acordo com o TEXTO 2, a palavra “ou” em “3 ou 4” tem a função de indicar
- Dúvidas.
 - Alternativas.
 - Quantidades.
 - Sugestões.
18. Analise as informações sobre a classificação dos substantivos.
- Derivado é aquele que se forma de outra palavra.
 - Abstrato é aquele que indica um nome comum a todos os seres da mesma espécie.
 - Composto é aquele formado de dois ou mais radicais
 - Coletivo é aquele que indica seres reais ou imaginários, de existência independente.

De acordo com as informações estão incorretas apenas

- I e II
- II e III
- III e IV
- II e IV

19. Identifique a alternativa incorreta.

- Sílabo tônica é a sílabo mais forte de uma palavra, aquela sílabo que pronunciamos com maior intensidade.
- De acordo com essa sílabo mais forte, as palavras podem ser oxítonas (quando a sílabo tônica é a última), paroxítonas (quando a sílabo tônica é a penúltima) ou proparoxítonas (quando a sílabo tônica é a antepenúltima).
- Nem sempre a sílabo tônica de um vocábulo leva acento gráfico.

d) “Higiene” é uma palavra proparoxítona. Já “roedor”, “cruel”, “sutil” e “Nobel” são palavras oxítonas.

20. Assinale a alternativa correta em relação à classificação dos adjetivos destacados nas frases:

I. Carolina comprou para a mãe um vestido **amarelo-claro**.

II. Ele estava **feliz** porque foi aprovado no vestibular.

III. O **mineiro** Carlos Drummond de Andrade é considerado um dos maiores poetas **brasileiros**.

a) Biforme, pátrio e derivado.

b) Composto, primitivo e pátrio.

c) Primitivo, composto e pátrio

d) Composto, derivado e pátrio.

Matemática

21. A dengue é uma doença que pode ser evitada com medidas simples de prevenção .De acordo com a tabela, em qual ano foi notificado o maior número de casos de dengue no Brasil?

Casos de dengue no Brasil	
Ano	Casos
2012	589 591
2013	1 452 489
2014	589 107
2015	1 649 008

Fonte: FGV (Fundação Getúlio Vargas).
Números da dengue no Brasil. 4 abr. 2016. Diretoria de Análise de Políticas Públicas. Disponível em: <<http://dapp.fgv.br/numeros-da-dengue-no-brasil/>>.
Acesso em: 16 abr. 2018.

a) 2015

b) 2014

c) 2013

d) 2012

22. Em algarismos romanos , o número MCLXX representa:

a) 1100

b) 1170

c) 520

d) 1230

23. Qual sistema de numeração foi criado pelos Hindus e aperfeiçoado na Europa pelos Árabes e hoje é utilizado pela maiorias dos Países?

a) Romano

- b) Maia
- c) Egípcio
- d) Hindu-Árabe

24. Qual é o menor número natural de quatro algarismos?

- a) 9999
- b) 1234
- c) 1000
- d) 1010

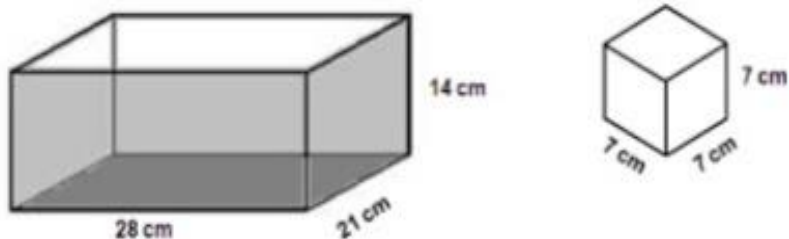
25. Qual é o maior número natural de três algarismos?

- a) 899
- b) 156
- c) 001
- d) 999

26. A partir da sequência dos números naturais, podemos construir outras sequências, como a dos números pares e ímpares. Qual das sequências apresenta apenas números PARES?

- a) 12,26,78,100,122
- b) 12,25,48,32,96
- c) 21,23,45,29,55
- d) 12,25,78,100,122

27. Quantos cubos como o representado ao lado cabem neste paralelepípedo?



- a) 20
- b) 21
- c) 24
- D) 28

28. O quinto número na sequência 4800, 2400, 1200, ... é :

- a) 400
- b) 300
- c) 600
- d) 700



33. O indicador do nível de carga de bateria do aparelho celular de João marca 75% de carga total. Que fração corresponde a essa porcentagem de carga?



a) $\frac{75}{100}$

v) $\frac{75}{200}$

c) $\frac{100}{75}$

d) $\frac{5}{10}$

34. No aniversário de Júlia, ela ganhou de presente um bolo e o dividiu em 12 partes iguais, conforme a figura.



Sabendo-se que Júlia comeu 3 pedaços, deu 1 para seu sobrinho e 2 para sua irmã, a fração do bolo que restou foi

a) $\frac{6}{10}$.

b) $\frac{1}{2}$.

c) $\frac{3}{12}$.

d) $\frac{1}{5}$.

35. Gabriel recebe mensalmente do seu pai o valor de R\$ 300,00 referente à pensão alimentícia. Sabe-se que Felipe gasta $\frac{1}{5}$ de sua pensão para passear com seus amigos no parquinho todos os meses. Quantos reais ele gasta no parquinho mensalmente?

a) R\$ 105,00.

b) R\$ 100,00.

c) R\$ 60,00.

d) R\$ 52,00.

36. Maria comprou um terreno quadrado medindo 576 m^2 e pretende fazer um muro para cercá-lo. Quantos metros de muro Maria deverá construir para cercar o seu terreno?

a) 80 m

b) 120 m

c) 96 m

d) 108 m



37. Em $\sqrt{25} = 5$, os números 25 e 5 são, respectivamente:

- a) Raiz e índice;
- b) Radicando e raiz;
- c) Radicando e índice;
- d) Nenhuma das anteriores.

38. Qual o valor da seguinte expressão numérica a) $2^4 \div 4 + 3^2 \times \sqrt{100}$?

- a) 91
- b) 92
- c) 93
- d) 94

39. Num supermercado o preço do feijão é de R\$ 2,35, o preço do arroz é de R\$ 1,75 e o preço da farinha de mandioca é de R\$ 2,08. Se forem adquiridos os três produtos e pagarmos com uma nota de R\$ 10,00, quanto se receberá de troco aproximadamente?

- a) R\$ 2,25
- b) R\$ 4,10
- c) R\$ 5,20
- d) R\$ 3,80

40. Ao transformar 20 m² em cm², teremos como área:

- A) 200000 cm²
- B) 2000 cm²
- C) 20000 cm²
- D) 200 cm²

CIÊNCIAS

41. A Terra, assim como todos os outros astros do universo, realiza movimentos. Assinale a alternativa correta na qual corresponde os principais movimentos da Terra:

- a) Estações do ano.
- b) Rotação e translação.
- c) Rotação e transmutação.
- d) Translação e revolução.

42. O movimento em que a Terra dá em torno do seu próprio eixo imaginário, no sentido anti-horário e que é responsável pela determinação dos dias e das noites é chamado de movimento de:

- a) Translação.

- b) Equinócio.
- c) Relação.
- d) Rotação.

43. De acordo com a origem, as rochas são classificadas em:

- a) Rochas vulcânicas, rochas ígneas e rochas sedimentares.
- b) Rochas ígneas, rochas sedimentares e rochas magmáticas.
- c) Rochas ígneas, rochas sedimentares e rochas metamórficas.
- d) Rochas ígneas, rochas metafóricas e rochas plutônicas.


44. Leia o trecho da reportagem e responda.

G1 G1 - Globo

Chuva causa alagamentos e deixa trânsito lento em Natal; confira pontos

Poças travam a passagem dos veículos, que têm dificuldade de trafegar, inclusive, nas principais vias da capital potiguar. Por G1 RN.

13 de mar. de 2020



Situações como a mostrada na notícia, são bastante comuns nas maiores cidades brasileiras, onde as ruas são pavimentadas, com grandes áreas de solo recobertas por pisos e asfaltos. Esse problema está relacionado ao solo e determinado como:

- A) Extração de minerais
- B) extrativismo
- C) Impermeabilidade do solo
- D) Intemperismo biológico

45. As atividades humanas é a maior responsável pelo aquecimento terrestre, que causa o derretimento das geleiras, o fenômeno que aumentou durante o século XX, está nos deixando um planeta sem gelo. De acordo com essa afirmação, como é chamada a passagem do estado físico do estado sólido para o líquido, que está sendo descrita no contexto?

- a) Condensação
- b) Solidificação
- c) Fusão
- d) Vaporização

46. Uma característica comum a todos os seres vivos é que todos são formados por células, a unidade básica da vida, estes são divididos em seres unicelulares e pluricelulares. Marque a alternativa que representa um exemplo de ser vivo unicelular e pluricelular

- a) Um exemplo de ser vivo unicelular é a bactéria, e um ser vivo pluricelular é o vírus.
- b) Um exemplo de ser vivo unicelular é a bactéria, e um ser vivo pluricelular é o ser humano.
- c) Um exemplo de ser vivo unicelular é a minhoca, e um ser vivo pluricelular é o ser humano.
- d) Um exemplo de ser vivo unicelular é a pedra, e um ser vivo pluricelular é a bactéria.


47. A parte central do sistema nervoso é o principal centro de comando do corpo humano. Ela recebe informações de diferentes regiões do organismo, interpreta-as e envia respostas. A parte central do sistema nervoso é composta por:
- Encéfalo e nervos
 - Encéfalo e medula espinal
 - Medula espinal e gânglio
 - Nervos e gânglios
48. Os impulsos nervosos são correntes elétricas originadas durante a entrada e a saída de determinados compostos químicos do interior de células especializadas em transmitir esses impulsos nervosos. Essas células especializadas são:
- Hemoglobina
 - Dendritos
 - Neurônios
 - Melanina
49. O Sistema nervoso central é a parte do organismo que transmite sinais entre as suas diferentes partes e coordena as suas ações voluntárias e involuntárias. **ASSINALE A ALTERNATIVA FALSA a respeito desse sistema.**
- O Sistema nervoso é dividido em duas partes, são elas a parte central e periférica.
 - A parte central do sistema nervoso central é formada pelo encéfalo e pela medula espinhal.
 - A parte periférica do sistema nervoso é formada por gânglios e por tendões.
 - A parte periférica do sistema nervoso é formada por gânglios e nervos.
50. Analise as alternativas a seguir e marque aquela que **NÃO** descreve uma função do sistema nervoso:
- captar e interpretar estímulos do ambiente.
 - transportar informações.
 - controlar a atividade dos músculos
 - transportar nutrientes e oxigênio para o corpo.

HISTÓRIA

51. Os primeiros habitantes da América navegaram da costa da Ásia até a América do Norte e depois seguiram em direção ao sul pela costa do continente. Esta hipótese sobre o povoamento do continente americano se refere qual descrição?
- Hipótese da Rota Costeira.
 - Hipótese da Migração Atlântica.

- c) Hipótese da Rota de Bering.
- d) Hipótese da Rota Transpacífica.

52. A escrita inventada na Mesopotâmia há cerca de 6 mil anos pelo povo sumério, provavelmente por causa da necessidade de registrar quantidades de produtos agrícolas, de animais e as trocas comerciais feitas entre as pessoas. Essa escrita era denominada como:



- a) Ideográfica.
- b) Cuneiforme.
- c) Pictograma.
- d) Alfabeto.

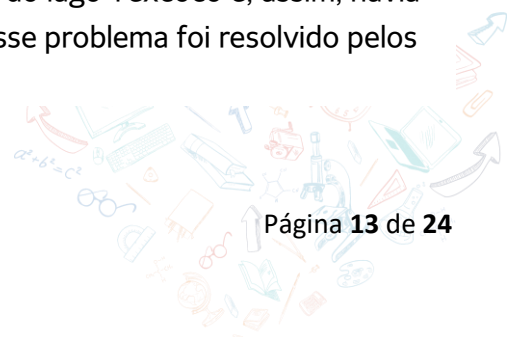
53. Os egípcios preservavam o corpo dos mortos, pois acreditavam que eles poderiam voltar à vida. Para isso, realizava um trabalho, que era exclusividade dos faraós, seus familiares e sacerdotes. Com o passar do tempo, esse trabalho foi autorizado para pessoas da nobreza. Trabalho qual custava caro, portanto a maioria das pessoas não podia pagar. Trabalho ficou conhecido como:

- a) Embalsamado.
- b) Cremação.
- c) Mumificação.
- d) Sepultamento.

54. Entre os séculos III e X, essa civilização se estabeleceram na região onde atualmente se localizam países como Guatemala, Belize, Honduras, El Salvador e parte do México. E também desenvolveu uma organização em cidade-estado.

- a) Incas.
- b) Astecas.
- c) Maias.
- d) Egípcios.

55. A cidade de Tenochtitlán localizava-se em uma ilha no meio do lago Texcoco e, assim, havia um problema crônico na cidade de falta de terras cultiváveis. Esse problema foi resolvido pelos astecas a partir das chinampas. O que eram as chinampas?



- a) Sistema de produção no qual era realizada a agricultura de curvas de nível, assim como no caso dos incas;
- b) Sistema de cultivo a partir de ilhas artificiais construídas com matéria orgânica que flutuavam sobre o lago Texcoco;
- c) Imposto obrigatório cobrado das cidades vizinhas, que mensalmente tinham como obrigação enviar alimentos para abastecer Tenochtitlán;
- d) Sistema de uso do solo que garantia uma fertilidade e uma produção três vezes melhor em comparação com povos vizinhos;

56. Uma das principais pólis gregas foi Esparta. Fundada no século IX a.C. pelos dórios, essa cidade-Estado tinha uma base como uma organização tendo que guerrear e conquistar outros povos e utilizar estratégias. Base na qual ficou conhecida como:



- a) Lutas.
- b) Militarismo.
- c) Colonizar.
- d) Escravizar.

57. A política da Roma antiga adotou um método que consistia em oferecer alimento e diversão aos plebeus para evitar que eles se rebelassem contra o governo. Método qual ficou conhecido:

- a) Pão e circo.
- b) Alimentos para todos.
- c) Direitos para todos.
- d) Assembleia do povo.

58. Observe a imagem:



A imagem representa uma antiga escultura etrusca, representando a loba amamentando os gêmeos Rômulo e Remo. Essa imagem nos revela que

- a) Os romanos explicavam a origem de sua cidade por meio de lendas que envolviam deuses e heróis.
- b) Não há nenhuma relação com a criação da cidade de Roma.
- c) As lendas são totalmente verdadeiras, retratando fielmente os fatos históricos da fundação de Roma.
- d) Não existiam lendas que busquem explicar origem de Roma.

59. Chamamos esse período histórico europeu que iniciou no ano de 476, com a queda do Império Romano do Ocidente, e terminou no ano de 1453, com a conquista de Constantinopla pelos turco-otomanos.

- a) Império Bizantino.
- b) Direito Romano.
- c) Império Islâmico.
- d) Idade Média.

60. O Império Romano do Oriente teve um desenvolvimento distinto do desenvolvimento do Império Romano do Ocidente. A parte oriental do Império também ficou conhecida como:

- a) Invasões germânicas.
- b) Império Bizantino.
- c) Império Islâmico.
- d) Império Romano no oriente.

GEOGRAFIA

61. Leia o seguinte fragmento:

“A Terra apresenta um conjunto de características específicas. O nosso planeta é apenas mis um dentre inúmeros astros do Universo, porém, com especificidades que o distingue dos demais”.

A respeito do enunciado, analise a alternativa incorreta sobre o nosso planeta:

- a) A rotação é o movimento que a Terra realiza girando em torno do seu próprio eixo.
- b) O formato do nosso planeta recebe o nome de paralelos.
- c) O eixo imaginário da Terra apresenta inclinação de 23 graus e atravessa o centro do nosso planeta.
- d) O sentido da rotação da Terra é de oeste para leste.

62. “A Terra orbita ao redor de uma estrela – o Sol, cuja luminosidade e temperatura, transmitidas por seus raios, possibilitam a existência de vida no planeta e influenciam sua dinâmica física, climática, hidrológica, dentre outras”.

Leia atentamente as afirmativas:

- I. A distância do planeta Terra ao Sol é de. Aproximadamente, 150 milhões de quilômetros;

- a) Tundra
- b) Floresta temperada
- c) Alta montanha
- d) Floresta de coníferas

67. A superfície terrestre é composta de inúmeras paisagens que, por diversas razões, são diferentes umas das outras. As características naturais de um lugar e o modo como as pessoas nele interferem, modificando-o de acordo com seus interesses e necessidades, estão entre as principais razões dessas diferenças.

Sobre as transformações das paisagens, marque a opção incorreta:

- a) Os agentes endógenos podem transformar as paisagens.
- b) São exemplos de agentes exógenos que alteram as paisagens: organismos vivos, tectonismo e vulcanismo.
- c) A própria natureza altera as mais distintas paisagens.
- d) A ação antrópica altera as paisagens de acordo com suas intencionalidades e em diferentes ritmos.

68. A superfície terrestre de nosso planeta apresenta variadas formas. Existem áreas com terrenos mais elevados e outras mais planas ou baixas. A esse conjunto de formas variadas da superfície terrestre denominamos **relevo**.

Leia as assertivas:

- I. As formas de relevo que observamos são resultado da atuação e da combinação de fatores internos e externos do planeta.
- II. As forças originadas no interior da Terra existem desde a formação do nosso planeta. Esses fenômenos atuam intensamente na modelagem do relevo terrestre.
- III. São exemplos das formas de relevo: planície, depressões, planaltos e montanhas.
- IV. A atuação de fatores internos e externos pode desencadear processos erosivos que alteram as formas de relevo.

Assinale corretamente:

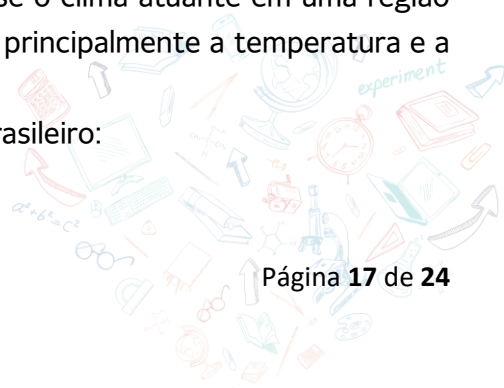
- a) I e II
- b) II e IV
- c) I, II e IV
- d) Todas

69. Analise a seguinte informação:

“O clima corresponde ao conjunto das condições do tempo atmosférico de um lugar, registradas ao longo de um período de tempo. Desse modo, identifica-se o clima atuante em uma região com base no registro das condições do tempo atmosférico, principalmente a temperatura e a quantidade de chuvas”.

Dos climas abaixo assinale os que são presentes no nordeste brasileiro:

- a) Tropical e semiárido



- b) Subtropical e mediterrâneo
- c) Frio e altas montanhas
- d) Polar e desértico

70. De posse das características dos climas abaixo, assinale a assertiva correta:

- a) *Clima Subtropical*: apresenta temperaturas elevadas no verão e precipitações bem distribuídas ao longo do ano. No outono e no inverno, as temperaturas tendem a ser mais baixas.
- b) *Clima frio*: os períodos de verão são mais longos e invernos não tão intensos.
- c) *Clima semiárido*: é caracterizado pela grande quantidade de chuvas durante o ano todo.
- d) *Clima tropical*: ocorre em áreas de elevada altitude, com verões curtos e invernos longos, apresentando temperaturas baixas praticamente o ano todo.

LÍNGUA INGLESA

71. Marque a alternativa que traduz corretamente a frase para o inglês.

“Estas são minhas cartas.”:



- a) Those are my cards.
- b) That is my card.
- c) These are my cards.
- d) This is my cards.

72. Assinale a única alternativa que descreve precisamente uma parte da casa.




- a) There are baths in the kitchen
- b) There is a cat in the bathroom
- c) There is a dog in my bedroom
- d) There are tvs in the kitchen

73. Marque a alternativa que corretamente descreve mais de um objeto na mesa:



- a) There are a photo and a Sandwiches
- b) There are Photos and a Cellphone
- c) There is a laptop
- d) There are Photos and Keys

74. Marque a alternativa que responde a ordem da prepositions of places da imagem:



- a) On, In, Under, Next to
- b) Under, In, On, Next to
- c) In, On, Under, Next to
- d) Above, On, In, Next to


75. Qual das frase é a única que condiz gramaticalmente e com a imagem?



- a) He is Claudio and It's his dog.
- b) I am Claudio and he's his dog.
- c) They are Claudio and we are his dog.
- d) It is Claudio and It is his dog.



TEXTO 3



http://www.juniao.com.br/wp-content/uploads/2013/01/charge_deficiente.jpg

PROPOSTA DE PRODUÇÃO TEXTUAL

Com base na leitura dos textos motivadores, redija um texto dissertativo-argumentativo escrito na norma padrão da língua portuguesa, sobre o tema ***O esporte como ferramenta de inclusão no ambiente escolar***, apresentando de maneira clara e objetiva seu posicionamento.

Organize e relacione de forma coesa e coerente os fatos, citações, dados e argumentos para defesa do seu ponto de vista.

ORIENTAÇÕES E CRITÉRIOS DE CORREÇÃO

Para escrever seu texto, preferencialmente, use caneta esferográfica de tinta preta, escreva com letra legível e se identifique apenas no local indicado. Você poderá utilizar informações presentes na prova, sem, contudo, se limitar a copiar integralmente trechos desta avaliação, a não ser sob forma de citação. Além disso, não faça desenhos e/ou marcas na Folha de Resposta da questão discursiva.

Você será penalizado em até 2 (dois) pontos se, em sua produção textual, desrespeitar os direitos humanos.

Sua produção só será corrigida se tiver mais de 08 (oito) linhas autorais.

Lembre-se de que seu texto será avaliado, levando-se em consideração os seguintes critérios:

- a) uso da norma-padrão da língua portuguesa;
- b) presença de uma tese (ponto de vista);
- d) uso adequado de elementos coesivos;
- e) coerência entre o ponto de vista defendido e os argumentos apresentados;
- f) respeitar os direitos humanos;
- g) apresentar proposta de intervenção.

RASCUNHO DA REDAÇÃO

01	
02	
03	
04	
05	
06	
07	
08	
09	
10	
11	
12	
13	
14	
15	
16	
17	
18	
19	
20	
21	
22	
23	
24	
25	
26	
27	
28	
29	
30	

