

PROCESSO SELETIVO PARA BOLSAS DE ESTUDO SOCIEDADE EDUCADORA SÃO FRANCISCO

LEIA ATENTAMENTE AS INSTRUÇÕES SEGUINTE:

1. Utilize apenas caneta esferográfica azul ou preta, feita em material transparente.
2. Escreva seu nome completo no local indicado nesta página.
3. Escreva no local indicado na FOLHA DE RESPOSTAS a cor do seu CADERNO DE QUESTÕES.
4. Este CADERNO DE QUESTÕES contém 40 questões (10 de Língua Portuguesa, 10 de Matemática, 05 de ciências, 05 de História, 05 de Geografia e 05 de Língua Inglesa) numeradas de 01 a 40 e a Proposta de Redação.
5. Confira se a quantidade e a ordem das questões do seu CADERNO DE QUESTÕES estão de acordo com as instruções anteriores. Caso o caderno esteja incompleto, tenha defeito ou apresente qualquer divergência, comunique ao aplicador da sala para que ele tome as providências cabíveis.
6. Para cada uma das questões objetivas são apresentadas 4 opções (a, b, c, d). Apenas uma corresponde corretamente à questão.
7. O tempo disponível para estas provas é de quatro horas.
8. Reserve um tempo para marcar seu FOLHA DE RESPOSTAS. Os rascunhos e as marcações assinaladas no CADERNO DE QUESTÕES não serão considerados na avaliação.
9. Somente serão corrigidas redações transcritas na FOLHA DE REDAÇÃO.
10. Quando terminar as provas, acene para chamar o aplicador e entregue este CADERNO DE QUESTÕES e o FOLHA DE RESPOSTAS e FOLHA DE REDAÇÃO.
11. Você poderá deixar o local de prova somente após decorrida uma hora do início da aplicação e poderá levar seu CADERNO DE QUESTÕES ao deixar em definitivo a sala de prova após decorridas duas horas do início da aplicação.



PROCESSO SELETIVO



SOCIEDADE EDUCADORA
SÃO FRANCISCO
a melhor educação

NOME DO CANDIDATO:

PARA BOLSAS DO 7º ANO | 2021

LÍNGUA PORTUGUESA

1. Leia os fragmentos abaixo e responda a questão:

Fragmento 01:

Ouvi João Bosco pela primeira vez em minha casa, quando estava escolhendo o artista novo, desconhecido, que viria gravar o outro lado do compacto simples do Disco de Bolso.

Disponível em: <http://www.joaobosco.com.br/bio.asp?bio=0>. Acesso em: 24 set. 2014.

Fragmento 02:

O João-de-barro tem esse nome por construir seu ninho de barro em forma de forno. Também é conhecido como forneiro.

Por que o substantivo *João* começa com letra maiúscula e o substantivo *João-de-barro*, não?

- Pelo fato de *João-de-barro*, ser um adjetivo composto, e não um substantivo.
- Podemos identificar claramente um erro na grafia das palavras.
- Porque se usa inicial maiúscula em substantivos próprios, e João-de-barro é substantivo comum (nome de ave).
- Atribui-se ao nome João (fragmento 01), a letra maiúscula, por tratar-se de um pronome pessoal.

2. Leia o texto:

EXÍMIO MERGULHADOR

Os biguás também são conhecidos como “pardais dos rios”.

Em sucessivos mergulhos, os biguás garantiram a captura de centenas de peixes, em questão de minutos. O bando agiu em conjunto, cercando, ou melhor, encurralando os peixes contra a margem.

Disponível em http://eptv.globo.com/busca/busca_interna.aspx?270222. Acesso em: 15 set. 2009.

O título do texto faz referência à um *Exímio mergulhador*, sobre quem o título do texto se refere?

- Os peixes
- Os biguás
- O rio
- O repórter

3. Leia o trecho inicial de uma matéria publicada em uma revista:

VOTO ROSA-CHOQUE

Há um século as mulheres não podiam votar. Para conseguir esse direito, algumas delas arregaçaram as mangas e lutaram cara a cara com os homens – algumas vezes até a morte.

Mariana Sgarioni. Revista *Aventuras na História*. Disponível em:

<http://guiadoestudante.abril.com.br/aventuras-historia/voto-rosa-choque-433802.shtml>. Acesso em: 8 dez. 2014.

Ao observarmos o título e o começo da matéria, podemos saber qual é o assunto tratado. Assinale a alternativa, que faz, uma relação coerente entre o título *Voto rosa-choque* e a matéria.

- Costuma-se considerar o **rosa** uma cor feminina, o que faz relação ao **voto feminino**.
- O título faz referência as excelentes cozinheiras que as mulheres sempre foram.
- Podemos considerar que o título aborda o ato desnecessário do voto feminino.
- Considera-se que o título faz referência ao papel da mulher na criação dos filhos.

4. Com base nos estudos realizados sobre Tipos de frases, leia as indicações abaixo, classifique-as como **(V) Verdadeiras e (F) Falsas**.

Assinale a alternativa que traz a sequência exata das questões:

- () Frase é todo enunciado de sentido completo.
- () Frases nominais não possuem verbos.
- () Frases verbais possuem verbos.
- () Toda frase deve ser iniciada com letra maiúscula.
- () Frase interrogativa expressa surpresa.
- () Frase declarativa expressa ordem ou pedido.

- a) V, F, V, V, F, V
- b) V, V, V, V, F, F
- c) F, V, V, F, V, F
- d) V, F, F, V, V, F

5. Leia este trecho de uma notícia sobre esporte:

Fluminense contrata jogadores do Pará e Tocantins para temporada 2015

Paraense Lucas Gomes e tocaninense Marlone jogarão pelo tricolor carioca; relembre perfil e trajetória dos atletas.

Manaus – O Fluminense aposta em jogadores amazônidas para fazer bonito em 2015. O time carioca anunciou a contratação de dois jogadores da Região Norte. O paraense Lucas Gomes, do Icasa (CE), e o tocaninense Marlone, campeão brasileiro de futebol com o Cruzeiro.

Disponível em: <http://portalamazonia.com/noticias-detalle/esporte/fluminense-contrata-jogadores-do-para-e-tocantins/?cHash=58b7256dfcaff782425a5be7262c140d>. Acesso em: 16 jan. 2015.

Nesse trecho são usados vários adjetivos pátrios. Assinale a alternativa que traz a real importância do uso desses adjetivos na notícia:

- a) Identificam o estado de origem dos jogadores contratados, informando os leitores de outros estados.
- b) Mostrar que os jogadores contratados, vieram de outros países.
- c) Os adjetivos pátrios demonstram o gênero de cada jogador.
- d) Identificar para os leitores que os jogadores contratados, são naturais do estado do Rio de Janeiro.

6. Assinale a alternativa em que todas as palavras são **paroxítonas**.

- a) glúten, ruim, revólver, amigo.
- b) felicidade, hangar, botox, tênis.
- c) órgão, gratuito, plateia, pólen.
- d) libido, fácil, ímpar, álibi.

7. As palavras abaixo em destaque, representam respectivamente, os encontros vocálicos indicados em qual alternativa?

Mooca - tireoide - Uruguai

- a) Ditongo, ditongo, tritongo.
- b) Hiato, ditongo, tritongo.
- c) Ditongo, hiato, ditongo.
- d) Ditongo, ditongo, hiato.

8. Assinale a frase, onde o pronome oblíquo está aplicado **incorretamente**:

- a) Para não aborrecê-lo, tive de sair.
- b) Quando sentiu-se em dificuldade, pediu ajuda.
- c) Não me submeterei aos seus caprichos.
- d) Ele me olhou algum tempo comovido.

9. As frases abaixo trazem em seu contexto o pronome de tratamento. Analise e assinale, a alternativa em que o uso deste pronome está **incorreto**:

- a) Os Reitores das Universidades recebem o título de Vossa Magnificência.
- b) Sua Excelência, o Senhor Ministro, não compareceu à reunião.
- c) Procurei o chefe da repartição, mas Sua Senhoria se recusou a ouvir as minhas explicações.
- d) Sua Eminência, o Papa Paulo VI assistiu à solenidade.

10. Indique a alternativa que apresenta: uma palavra oxítone, uma palavra paroxítone e uma proparoxítone, respectivamente:

- a) dia, recorde, válido
- b) azul, bênção, míope
- c) noz, ruim, acadêmico
- d) saci, tórax, higiene.

MATEMÁTICA

11. Em MDXXX , com o propósito de realizar uma política de colonização efetiva, Dom João III, "O Colonizador", organizou uma expedição ao Brasil. Qual o ano referido na questão?

- a)1500
- b)1600
- c)1700
- d)1800

12. Um fazendeiro possui 10 vacas leiteiras. Cada vaca leiteira produz 5 litros de leite por dia. Se o fazendeiro vender esse leite em garrafas de 1 litro, quantas garrafas podem ser vendidas em 1 mês?



- a)1500
- b)1600
- c)1700
- d)1800

13. Resolvendo a expressão: $(2 \times 3 + 3 \times 5 - 4 : 2) \times 2$ o valor encontrado é:

- a)35
- b)38
- c)42
- d)40

14. Do seu salário, Marcelo utilizou R\$ 580,00 para pagar o aluguel, R\$ 380,47 com combustível, R\$ 951,24 com alimentação e ainda sobraram R\$ 838, 29. Qual o salário de Marcelo?



- a)R\$ 3500,00
- b)R\$ 3250,00
- c)R\$ 2750,00
- d)R\$ 2645,00

15. Utilizando a fatoração em números primos, determine quais são os dois números consecutivos cujo mmc é 1260?

- a) 32 e 33
- b) 33 e 34
- c) 35 e 36
- d) 37 e 38

16. Três rolos de fita de 60 metros, 120 metros e 150 metros, respectivamente, devem ser divididos em pedaços iguais, de maior comprimento possível, de modo que não sobre nenhum pedaço de fita. Qual deve ser o tamanho de cada pedaço?



- a)25 metros
- b)30 metros
- c)35 metros

d)40 metros

17. É divisível por 2, 3 e 5 simultaneamente o número:

- a) 235
- b) 520
- c) 230
- d) 510

18. A altura de uma casa era 5,18 metros. Construído um segundo andar, a altura da casa passou a ser de 7,7 metros. Em quantos metros a altura inicial da casa foi aumentada?



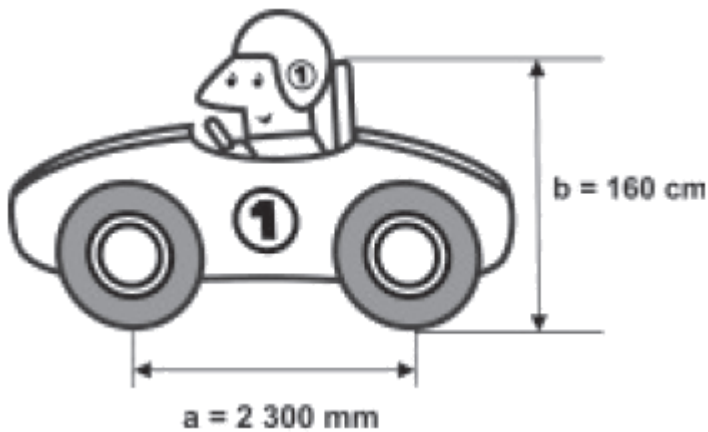
- a)2,52 metros
- b)2,65 metros
- c)2,43 metros
- d)2,55 metros

19. Para uma festa foram encomendados 750 docinhos, sendo $\frac{1}{3}$ de beijinhos. Quantos beijinhos foram encomendados para a festa?



- a)150
- b)250
- c)350
- d)450

20. Um mecânico de uma equipe de corrida necessita que as seguintes medidas realizadas em um carro sejam obtidas em metros: Seguindo a ordem, medida “a” e medida “b” valem:



- a) 2,3 e 1,6
- b) 0,23 e 16
- c) 23,05 e 0,16
- d) 1,6 e 230

CIÊNCIAS

21. Que tipo de solo tem partículas menores:

- a) arenoso.
- b) argiloso.
- c) rochoso.
- d) médio.

22. Todo o planeta Terra é envolvido por uma camada de ar. Essa camada gasosa que envolve a Terra é chamada:

- a) hidrosfera.
- b) atmosfera.
- c) biosfera.
- e) litosfera.

23. A cólera é uma doença que pode ser contraída quando ingerimos alimentos e água contaminados, podendo desta forma, provocar forte diarreia, com fezes líquidas e esbranquiçadas.

Marque a opção abaixo que NÃO corresponde a uma forma de prevenção contra esta doença.

- a) Usar sempre água fervida ou esterilizada com produtos a base de cloro.
- b) Lavar bem os legumes e frutas antes de ingeri-los crus.
- c) Saneamento básico.
- d) Destinar todo o lixo sólido para usinas de compostagem.

24. Considere o esquema abaixo que mostra as etapas de tratamento da água na Companhia de Saneamento Básico do Estado de São Paulo – SABESP:



Na etapa 2, a adição de cal, nome vulgar do óxido de cálcio, tem o objetivo de:

- a) Corrigir a acidez para aumentar a eficiência no processo de floculação.
- b) Retirar as impurezas mais grossas.
- c) Filtrar a água no final do processo.
- d) Adicionar flúor para melhor saúde bucal da população

25. Qual das doenças a seguir não apresenta a ingestão de água contaminada como forma de transmissão?

- a) Giardíase.
- b) Esquistossomose.
- c) Rotavírus.
- d) Cólera.

HISTÓRIA

26. A ideia criacionista relacionada à origem do ser humano predominou nas sociedades ocidentais cristãs até o século dezanove. Durante muito tempo de estudos o cientista Charles Darwin lançou o livro “A origem das espécies”, no qual propôs:



- a) O reforço do criacionismo.
- b) O evolucionismo.

- c) O cristianismo.
- d) A seleção natural.

27. O estudo da história evolutiva do homem, assim como da história de vida de outras espécies, é complexo e cheio de lacunas, uma vez que o trabalho é feito basicamente com fósseis, que nem sempre estão bem preservados. O esqueleto mais antigo encontrado no Brasil da espécie *Homo sapiens* viveu há cerca de 11 mil anos e é conhecido pelo nome de:

- a) Helena.
- b) Luzia.
- c) Naia.
- d) Lúcia.

28. Os escribas do Egito antigo ocupavam uma posição subalterna na hierarquia administrativa governamental frente à aristocracia burocrática. Sua posição social era inferior em relação aos conselheiros do Faraó, aos chefes da administração, à nobreza territorial, à elite militar e aos sacerdotes. Mas as características de seu ofício os afastavam de trabalhos forçados e das arbitrariedades das elites, que subjugavam e exploravam camponeses livres e escravos de origem estrangeira. Tal condição privilegiada se explicava:



- a) por serem provenientes do meio social dos felás, camponeses livres, que investiam na formação educacional de seus filhos mais inclinados ao serviço público.
- b) pelo domínio dos escribas dos segredos da escrita demótica e dos hieróglifos, do cálculo e, por conseguinte, da organização das atividades da administração pública.
- c) pela dependência direta de faraós e altos funcionários reais relativas aos conhecimentos dos escribas, que formavam uma corporação intelectual dotada de poder político.
- d) pelo domínio exclusivo dos escribas do idioma escrito, da matemática, da agrimensura e dos processos administrativos em geral.

29. A Guerra do Peloponeso foi uma guerra civil que ocorreu na Grécia Antiga entre 431 e 404 a.C. Esse conflito militar durou 27 anos e terminou com a vitória de:

- a) Tebas.
- b) Esparta.

- c) Atenas.
- d) Creta.

30. Quando a notícia disto chegou ao exterior, explodiram revoltas de escravos em Roma (onde 150 conspiraram contra o governo), em Atenas (acima de 1.000 envolvidos), em Delos e em muitos outros lugares. Mas os funcionários governamentais logo as suprimiram-nos diversos lugares com pronta ação e terríveis torturas como punição, de modo que outros que estavam a ponto de revoltar-se caíram em si. (Diodoro da Sicília, sobre a Guerra Servil na Sicília. 135-132 a.C.).

É correto afirmar que as revoltas de escravos na Roma Antiga eram:

- a) lideradas por senadores que lutavam contra o sistema escravista.
- b) semelhantes às revoltas dos hilotas em Esparta.
- c) provocadas pela exploração e maus-tratos impostos pelos senhores.
- d) desencadeadas pelas frágeis leis, que deixavam indefinida a situação de escravidão.

GEOGRAFIA

31. Assinale, a seguir, a alternativa que melhor indica o conceito atual de espaço geográfico:



- a) Compreende o substrato superficial onde habitam os seres vivos terrestres.
- b) Abrange o meio físico da Terra e suas dinâmicas naturais, tais como o clima, o relevo e a vegetação.
- c) É o resultado da interação mediada pelas técnicas entre as práticas humanas e suas sociedades com a superfície terrestre e seus elementos.
- d) É tudo aquilo que pode ser contemplado pela visão em um ambiente imediatamente próximo.

32. “No conceito de espaço geográfico está implícita a ideia de articulação entre natureza e sociedade. Na busca desta articulação, a Geografia tem que trabalhar, de um lado, com os elementos e atributos naturais, procurando não só descrevê-los, mas entender as interações existentes entre eles; e de outro, verificar a maneira pela qual a sociedade está administrando e interferindo nos sistemas naturais. Para perceber a ação da sociedade é necessário adentrar em sua estrutura social, procurando apreender o seu modo de produção e as relações socioeconômicas vigentes”.

(GIOMETTI, A. B. R., et al. Leitura do Espaço Geográfico através das categorias: Lugar, Paisagem e Território. In: *Caderno de formação: formação de professores didática dos conteúdos*. São Paulo: Cultura Acadêmica, 2012. p.34).

Na conceituação acima apresentada, temos a Geografia como uma ciência da natureza e da sociedade, no sentido de:

- a) Descrever as metanarrativas individuais do natural e do social.
- b) Evidenciar as relações de interação entre esses dois elementos da realidade.
- c) Compreender as dinâmicas naturais dos espaços humanizados.
- d) Avaliar as estruturas dos sistemas naturais para neles interferir.

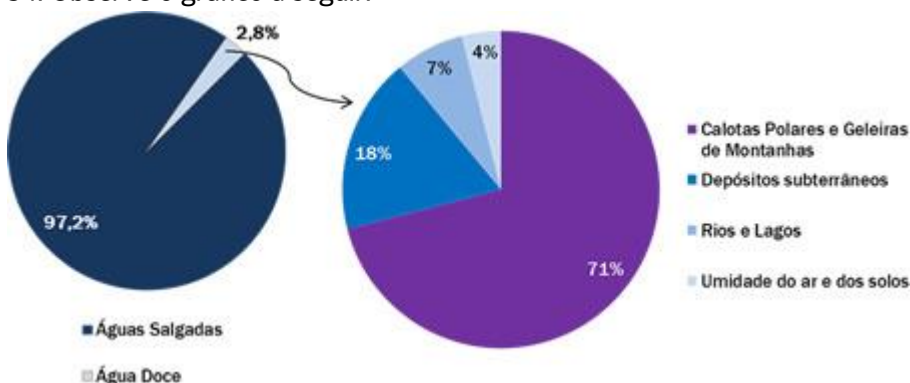
33. Os recursos naturais renováveis, como o próprio nome indica, são aqueles que podem renovar-se naturalmente mesmo após terem sido utilizados nas atividades humanas. Isso não significa, porém, que eles durem para sempre, pois o uso predatório de tais recursos pode levá-los à extinção.



Assinale a alternativa que indica uma medida de preservação e manutenção dos recursos naturais renováveis.

- a) Ampliação das áreas de cultivo do solo.
- b) Implantação de sistemas de irrigação sem controle.
- c) Uso de agrotóxicos e fertilizantes com muita intensidade nas lavouras.
- d) Diminuição do consumo e reaproveitamento dos materiais recicláveis.

34. Observe o gráfico a seguir:



Adaptado de VESENTINI, José William. *Geografia: o mundo em transição*. São Paulo: Editora Ática, 2012.

Com base nas informações dos gráficos e em seus conhecimentos sobre a distribuição e utilização da água no mundo, assinale a resposta certa:

- a) Apesar do quantitativo reduzido de água potável no mundo, sua distribuição é quase igualitária em todo o globo, caso contrário não haveria vida.
- b) O Brasil é um país privilegiado por ter a maior reserva de água do mundo, bem distribuída em seu território.

- c) A quantidade de água disponível no mundo não será um problema, haja vista que se trata de um recurso natural renovável.
- d) A água vem provocando algumas guerras e deve continuar sendo um importante elemento geopolítico no século XXI.

35. “Os oceanos ocupam cerca de 70,7% da superfície terrestre, e o _____, com extensão de aproximadamente 146,5 milhões de quilômetros quadrados, é o maior de todos eles. Ele também apresenta a maior profundidade média: 4.049 metros, sendo que o ponto mais profundo, na fossa das Marianas, atinge 11.022 metros”.

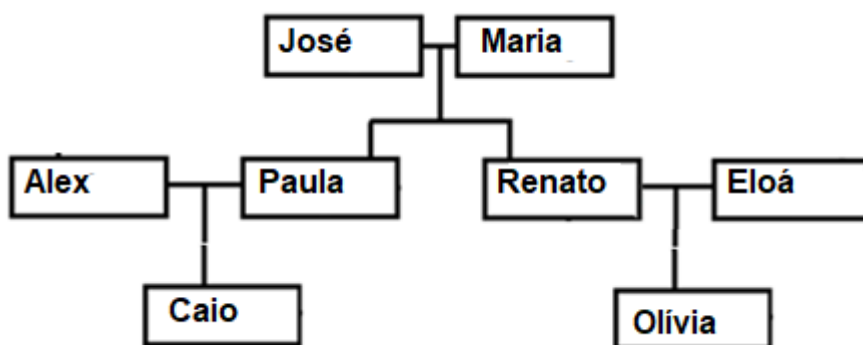
Retirado de: www.brasilecola.com

O nome do oceano que preenche a lacuna conforme as características citadas é o:

- a) Índico.
- b) Pacífico.
- c) Atlântico.
- d) Glacial Ártico.

LÍNGUA INGLESA

36. Observe a fala de cada membro da família e assinale a alternativa que apresenta o uso **incorreto** dos Possessive Adjectives e das palavras de parentesco.



- a) José and Maria: “Caio and Olívia are our grandchildren”
- b) Alex: “Paula is my wife. Her parents are José and Maria.”
- c) Paula: “Renato is my brother. Olívia is his daughter”
- d) Caio: “Olívia is my sister. His parentes are Renato and Eloá.”

37. Assinale a alternativa que contém a árvore genealógica da família de Charlie

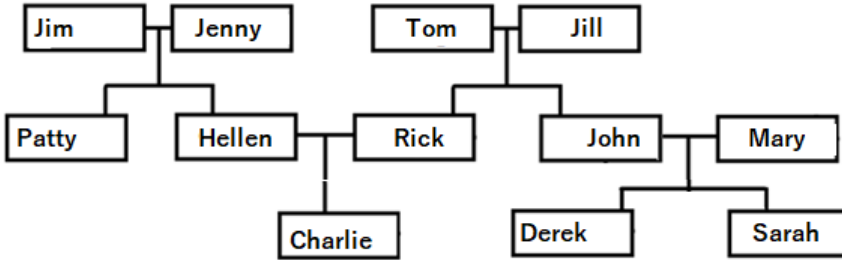
“Hello, my name is Charlie and I have a great family! My fathar’s name is Rick and my mother’s name is Hellen. We live happily in our house with our dog Rex. My grandparents are awsome and I love them very much. Jim and Jenny are my mother’s parents and Tom and Jill are my father’s parents. The name of my mother’s sister is Patty and the name of my father’s brother is John. John is married with Marry and their children’s name are Derek and Sarah.”

awsome: incrível

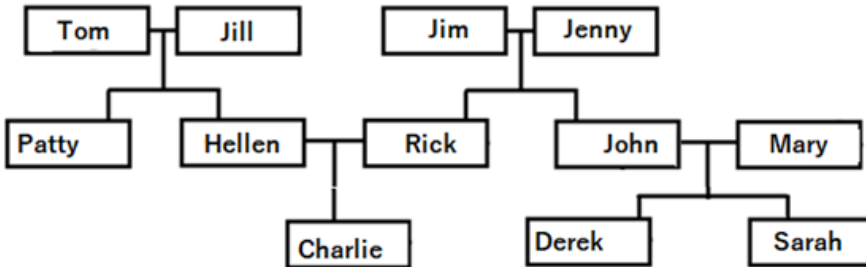
happly: felizes

married: casado

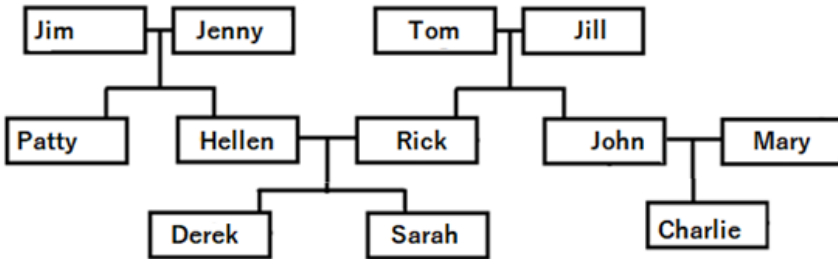
a)



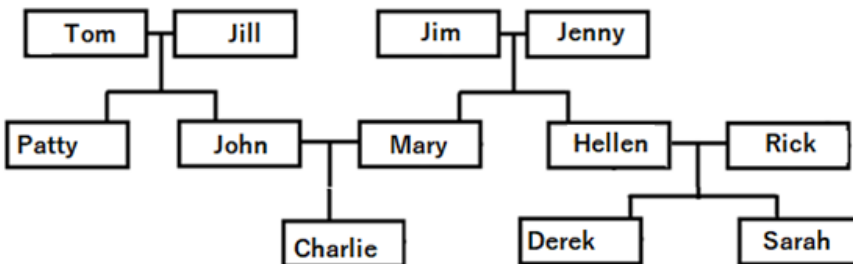
b)



c)



d)



38. Assinale a alternativa que preenche corretamente as lacunas abaixo

I. My father's name is Alan. He _____ 40 years old.

II. Patrícia's erasers _____ pink.

III. _____ happy today.

IV. I _____ his son.

- | | | | |
|------------|-------------|-------------------|------------|
| a) I. are | II. aren't | III. Angélica are | IV. is not |
| b) I. is | II. isn't | III. Angélica are | IV. not am |
| c) I.. is; | II. aren't; | III. Angélica is | IV. am not |
| d) I. are | II. isn't | III. Angélica is | IV. not is |

39. Assinale a alternativa em que a frase está no plural

- a) There are almost eleven pencils in my pencil case.
- b) Is there a notebook on the desk?
- c) I am Ana's brother.
- d) George is my best friend

40. Assinale a alternativa que descreve corretamente materiais escolares presentes na imagem



- a) There is one book, one eraser, two scissors, two stapler, one glue, two pencils and three pens.
- b) There is one notebook, one eraser, one scissor, one stapler, two glues, two pencils and three pens.
- c) There is one book, two erasers, one scissor, one stapler, two glues, two pens and three pencils.
- d) There is one notebook, two erasers, one scissor, one stapler, one glue, two pens and three pencils.

REDAÇÃO

TEXTO 1



TEXTO 2

O Brasil é dono de uma das maiores biodiversidades em fauna e flora do planeta, mas os impactos ambientais provocados pelo homem estão contribuindo com o desaparecimento de inúmeras espécies. Para impedir que mais delas se tornem ameaçadas, principalmente se tratando dos animais, foi sancionada, em 12 de fevereiro de 1998, a Lei de Crimes Ambientais. No artigo 29, fica claro que **matar, perseguir, caçar, apanhar**, utilizar espécimes da fauna silvestre, nativos ou em rota migratória, sem a devida permissão, licença ou autorização da autoridade competente são atividades ilegais que podem gerar pena entre seis meses e um ano e multa. No entanto, acredita-se que a legislação não é suficiente quando se fala em conscientização. É preciso trabalhar por ela. Para proteger os animais, que, no Brasil, somam mais de 3.000 espécies vertebradas, pensando nisso, foi criado o **Dia da Defesa da Fauna**. Nesta data, entidades que trabalham pela causa, aproveitam para chamar atenção ao seu significado.

O veterinário da SEMA, Elisandro Oliveira dos Santos, identifica que o que mais deixa os animais suscetíveis à exploração humana é a fragmentação de sua ambientes naturais. Com isso, eles precisam buscar abrigo, ficando expostos. Orienta-se que, sempre que um animal silvestre em situação de risco for encontrado, se acione os órgãos responsáveis, para que possam recolhê-lo.

A partir da leitura dos textos motivadores e com base nos conhecimentos construídos ao longo de sua formação, redija um texto dissertativo argumentativo em modalidade escrita formal da língua portuguesa sobre o tema “**Proteção aos animais silvestres: Um dever de todos.**”

Lembre-se que seu texto será avaliado, levando em consideração os seguintes critérios:

- Produção do gênero textual proposto no comando da questão;
- Uso da variedade linguística adequada à situação de comunicação proposta;
- Abordagem do tema proposto no comando da questão;
- Uso adequado de elementos responsáveis pela textualidade (coesão, coerência, informatividade e progressão);
- Coerência entre o ponto de vista defendido e os argumentos apresentados;

Você será penalizado em até 01 (um) ponto se, em sua produção textual, desrespeitar os direitos humanos.

Sua produção só será corrigida se tiver mais de 15 (quinze) linhas autorais.

