



# provinha 2024 sesc

## Para Bolsas de 2<sup>o</sup> Ano

Leia atentamente as instruções seguintes:

1. Utilize apenas caneta esferográfica azul ou preta, feita em material transparente.
2. Escreva seu nome completo no local indicado nesta página.
3. Este Caderno de Questões contém 40 questões (20 de Língua Portuguesa e 20 de Matemática) numeradas de 01 a 40.
4. Para cada uma das questões objetivas são apresentadas 4 opções (A, B, C, D). Apenas uma corresponde corretamente à questão.
5. O tempo disponível para estas provas é de quatro horas.

Nome do aluno
---------------

## Língua Portuguesa

Leia o texto com atenção e responda as questões de 01 a 04:

Um dia de chuva

O dia está chuvoso!

Esperança adora quando isso acontece, pois brincar na poça de água é seu divertimento predileto.

Dona Graça, sua mãe, vive falando:

- Esperança, saia logo desta chuva, você pode ficar gripada, menina!



01- Qual o título do texto?

- (a) Esperança e a chuva
- (b) Dona Graça e Esperança
- (c) Um dia de chuva
- (d) A chuva

02- Qual o divertimento predileto de Esperança?

- (a) Dançar na chuva.
- (b) Brincar na poça de água que a chuva faz.
- (c) Brincar com as gotinhas de chuva que caem do telhado.
- (d) Olhar a chuva da janela da sua casa.

03- O que Dona Graça diz, quando vê a filha brincando na poça de água?

- (a) - Esperança, saia logo desta chuva, você pode ficar gripada, menina!
- (b) - Esperança, você vai cair, menina!
- (c) - Esperança, volte para casa!
- (d) - Esperança, pode ficar na chuva!

04- Esperança adora quando o dia está...

- (a) ensolarado
- (b) nublado
- (c) frio
- (d) chuvoso



05-De acordo com a ordem das figuras marque a alternativa correta.



- a) folha – galinha – chapéu
- b) chapéu – folha – galinha
- c) galinha – chapéu – folha
- d) chapéu – galinha – folha

06-De acordo com os desenhos que complementam essa frase, marque a alternativa que está escrita corretamente.



toma banho de



- a)  O palhaço toma banho.
- b)  O palhaço gosta de brincar.
- c)  O palhaço toma banho de chuva.
- d)  O palhaço não toma banho de chuva.

07-Observe as figuras abaixo e assinale as memos corretas que estão com ge e gi.

- a) gele – relógio.
- b) gelatina – horário
- c) gelado – relógio
- d) gelatina – relógio



08-Assinale o nome correto da figura abaixo.

- a) coracão
- b) corasão
- c) corações
- d) coraçõe



09- Descubra as letras do alfabeto que estão faltando e marque a opção correta.  
 A B C \_\_\_\_\_ E F G \_\_\_\_\_ I J K \_\_\_\_\_ M N O P Q R  
 \_\_\_\_\_ T U V W \_\_\_\_\_ Y Z.

- a) C D H J S X
- b) C D L S X
- c) D J L S X
- d) C D H J S X

10- Ordene a frase abaixo e assinale a resposta correta:


haverá de hoje piano. aula

- a) Haverá hoje aula de piano.
- b) Hoje não haverá aula de piano.
- c) Hoje haverá aula de piano.
- d) Não haverá hoje a aula de piano.

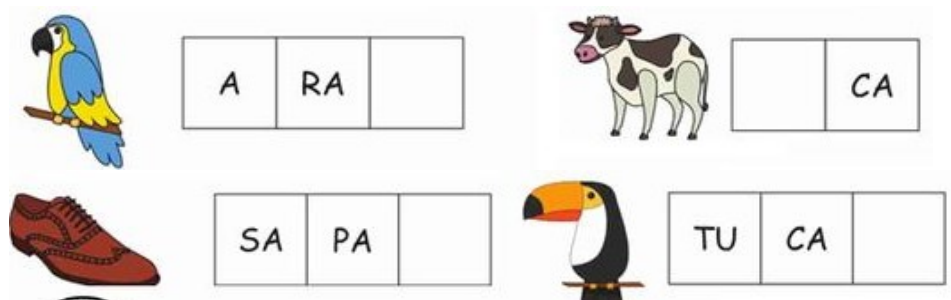
11- Quais os nomes dos objetos citados abaixo, com atenção assinale a resposta certa:



- a) pato, panela, pião e pipoca
- b) panela, pião, pipa e palito
- c) panela, pião, pipa e pão.
- d) pato, panela, pipa e pão



12- Observe a sílaba que está faltando em cada nome dos desenhos abaixo e assinale a resposta certa:



- a) ra - ve - te - me
- b) ca - va - te - nu
- c) ra - va - te - me
- d) va - ca - te - me

13 - Assinale a resposta correta que mostra a ordem correta dos nomes dos desenhos na frase abaixo:




- a) faca - memine - dede
- b) faca - dede - memine
- c) memine - dede - faca
- d) dede - faca - memine

14 - Assinale a resposta que os nomes dos desenhos abaixo estão com as sílabas separadas corretamente



- a) di - mhei - re / tea - lha
- b) dim - hei - re / te - a - lha
- c) di - mhe - i - re / tea - lha
- d) di - mhei - re / te - a - lha



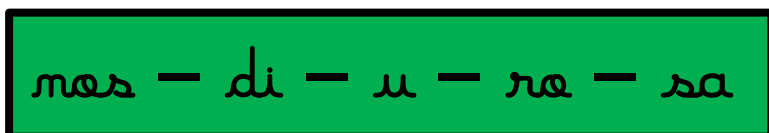
15 – Quais desenhos começam com a letra t?

Circule a resposta correta:



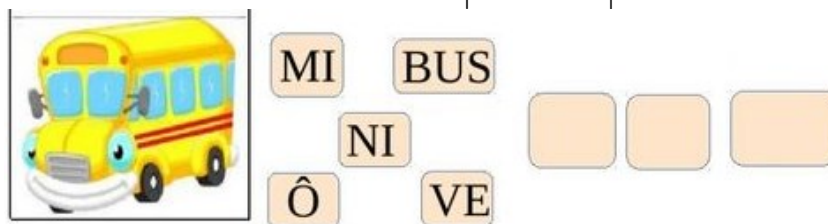
- a) tapete – dado
- b) tapete – telefone
- c) dado – tapete
- d) dado – telefone

16 – Ordene a palavra destacada no quadro abaixo e marque a resposta certa:



- a) discoteca
- b) dinamite
- c) dinossauro
- d) disco reader

17 – Observando as sílabas misturadas, quais eu preciso usar para formar o nome desse desenho corretamente? Marque a resposta certa:



- a) ve – mi – bus
- b) ô – ni – ve
- c) mi – ve – bus
- d) ô – ni – bus






18 – Veja o quadro abaixo numerado com sílabas e forme essas duas palavras e assinale a resposta correta:

1 - 15 - 21

9 - 4 - 23

CE <sup>1</sup>	BE <sup>2</sup>	CO <sup>3</sup>	NOU <sup>4</sup>
JA <sup>5</sup>	CO <sup>6</sup>	CU <sup>7</sup>	MEN <sup>8</sup>
CE <sup>9</sup>	CI <sup>10</sup>	A <sup>11</sup>	CA <sup>12</sup>
CA <sup>13</sup>	E <sup>14</sup>	BO <sup>15</sup>	LHO <sup>16</sup>
NE <sup>17</sup>	ÇA <sup>18</sup>	DO <sup>19</sup>	TO <sup>20</sup>
LA <sup>21</sup>	CI <sup>22</sup>	RA <sup>23</sup>	MA <sup>24</sup>
RO <sup>25</sup>	CA <sup>26</sup>	E <sup>27</sup>	


7 - 27 - 26



- a) cabeça – cemeira
- b) cebola – cemeira
- c) cebola – cueca
- d) cemeira – cabeça


19- Observe a figura e assinale a alternativa que apresenta a separação silábica correta:

- (a) fe - rra - du - ra
- (b) fer - ra - du - ra
- (c) fe - ra - dur - ra
- (d) fer - ra - dur - ra



20- Observe a figura e assinale a alternativa onde o nome está escrito corretamente:

- (a) casteslo
- (b) castelo
- (c) cateslo
- (d) casstelo



### Matemática

01- Marque qual objeto que é usado para medir os tecidos.

- a) régua
- b) fita métrica
- c) trena
- d) metro de madeira

02- Caio adora frutas. No sítio onde ele mora ele colheu 6 cajus e 13 maçãs. Quantas frutas ele colheu ao todo?

- a) 18 frutas
- b) 16 frutas
- c) 19 frutas
- d) 29 frutas

03- Assinale qual desse recipiente cabe a quantidade de 1 litro de leite.

- a) caneca
- b) copo
- c) jarra
- d) xícara





04-Observando abaixo o peso dos irmãos Paulo, Ciro, Luisa e Marco. Assinale a opção que indica qual é o mais pesado.



- a) 15 kg
- b) 12 kg
- c) 14 kg
- d) 17 kg


05-Felipe tinha 15 bexigas, ganhou mais 5. Com quantas bexigas ele ficou?

- a) 19 bexigas
- b) 17 bexigas
- c) 20 bexigas
- d) 18 bexigas



06-A diretora gosta de comer 3 (três) frutas a tarde e 2 (duas) frutas a noite. Quantas frutas a diretora come por dia?

- a) 6 frutas
- b) 5 frutas
- c) 1 frutas
- d) 7 frutas

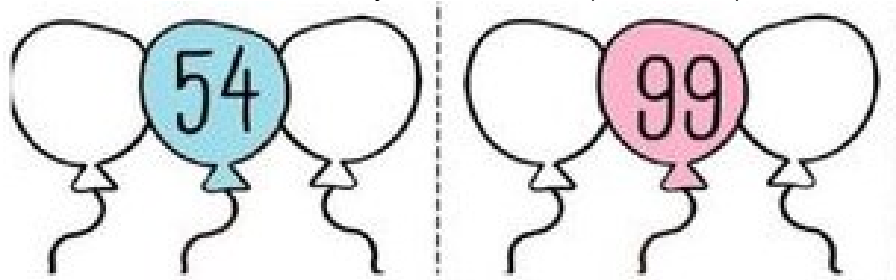


07- Vovó Maria fez 12 bolinhas, seu neto Gabriel comeu 6. Quantas bolinhas restaram?

- a) 7 bolinhas
- b) 5 bolinhas
- c) 18 bolinhas
- d) 6 bolinhas



08 - Complete com as números vizinhos e marque a resposta correta:



- a) 52 - 55 / 97 - 98
- b) 53 - 55 / 97 - 100
- c) 53 - 55 / 98 - 100
- d) 52 - 55 / 98 - 100

09- Uma galinha botou 10 ovos, mas 8 quebraram. Com quantos ovos ela ficou?

- a) 18 ovos
- b) 3 ovos
- c) 2 ovos
- d) 5 ovos







10- Rafael tinha 11 carrinhos, deu 4 carrinhos para seu amigo Luiz. Quantos carrinhos Rafael tinha?

- a) 8 carrinhos
- b) 7 carrinhos
- c) 15 carrinhos
- d) 9 carrinhos



11 – De acordo com o quadro numérico indicado abaixo, observe os números que estão faltando e assinale a resposta certa:

1		3	4	5		7	8	9	10
11	12		14	15	16	17		19	20
	22	23	24	25		27	28	29	30
31	32		34	35	36	37	38		40
41		43	44	45	46	47		49	50

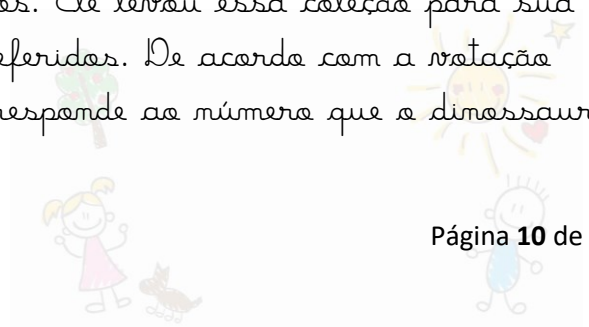
	$\equiv$	<input type="text"/>		$\equiv$	<input type="text"/>
	$\equiv$	<input type="text"/>		$\equiv$	<input type="text"/>


- a) 12 – 18 – 38 – 41
- b) 13 – 19 – 21 – 40
- c) 11 – 18 – 38 – 41
- d) 13 – 18 – 39 – 42

12- Magali e Cininha saíram para a feira e compraram 7 cenouras e 15 batatinhas. Quantos legumes elas compraram juntas?

- a) 32 legumes
- b) 18 legumes
- c) 20 legumes
- d) 22 legumes

13 – Davi tem uma coleção de dinossauros. Ele levou essa coleção para sua turma e os alunos votaram nos seus preferidos. De acordo com a votação realizada, marque a alternativa que corresponde ao número que o dinossauro mais votado obteve:





- a) 8
- b) 9
- c) 10
- d) 11

14- Na festa de aniversário de Cebolinha foram 8 meninas e 12 meninos.  
 (Quantas crianças foram nesta festa?)

- a) 19 crianças
- b) 20 crianças
- c) 22 crianças
- d) 25 crianças

15 – Observe os desenhos e assinale a alternativa correta que indica o que podemos comprar por quilo?



- a) leite, melancia
- b) melancia, macarrão
- c) leite, macarrão
- d) macarrão, gasolina

16 – Esses instrumentos citados abaixo, usamos para?  
 Marque a resposta correta:



- a) Pesar
- b) Segurar
- c) Medir
- d) asseprar

17– Resolva com atenção, o ônibus da escola de Lucas cabe 15 alunos, mais hoje só foram 9 alunos. Quantos lugares ficaram vazios? Assinale a resposta certa:



- a) 9 lugares
- b) 7 lugares
- c) 6 lugares
- d) 5 lugares



18- No supermercado Betina comprou 7 abacaxis e 16 laranjas. Quantas frutas ela comprou?

- a) 23 frutas
- b) 33 frutas
- c) 35 frutas
- d) 25 frutas

19 - Maria tinha 25 reais mais comprou pirulitos que custou 4 reais. Com quantos reais ela ficou?

- a) 20 reais
- b) 22 reais
- c) 23 reais
- d) 21 reais



20- Manoel tinha 17 bolinhas de gude e ganhou mais 7. Com quantas bolinhas de gude ele ficou?

- a) 20 bolinhas de gude
- b) 24 bolinhas de gude
- c) 27 bolinhas de gude
- d) 34 bolinhas de gude

