



pro-sest

2024

Para Bolsas do 8º Ano

Leia atentamente as instruções seguintes:

1. Utilize apenas caneta esferográfica azul ou preta, feita em material transparente.
2. Escreva seu nome completo no local indicado nesta página.
3. Escreva no local indicado na FOLHA DE RESPOSTAS a cor do seu CADERNO DE QUESTÕES.
4. Este CADERNO DE QUESTÕES contém 80 questões (20 de Língua Portuguesa, 20 de Matemática, 10 de ciências, 10 de História, 10 de Geografia e 10 de Língua Inglesa) numeradas de 01 a 80 e a Proposta de Redação.
5. Confira se a quantidade e a ordem das questões do seu CADERNO DE QUESTÕES estão de acordo com as instruções anteriores. Caso o caderno esteja incompleto, tenha defeito ou apresente qualquer divergência, comunique ao aplicador da sala para que ele tome as providências cabíveis.
6. Para cada uma das questões objetivas são apresentadas 4 opções (a, b, c, d). Apenas uma corresponde corretamente à questão.
7. O tempo disponível para estas provas é de quatro horas.
8. Reserve um tempo para marcar seu FOLHA DE RESPOSTAS. Os rascunhos e as marcações assinaladas no CADERNO DE QUESTÕES não serão considerados na avaliação.
9. Somente serão corrigidas redações transcritas na FOLHA DE REDAÇÃO.
10. Quando terminar as provas, acene para chamar o aplicador e entregue este CADERNO DE QUESTÕES e o FOLHA DE RESPOSTAS e FOLHA DE REDAÇÃO.
11. Você poderá deixar o local de prova somente após decorrida uma hora do início da aplicação e poderá levar seu CADERNO DE QUESTÕES ao deixar em definitivo a sala de prova após decorridas duas horas do início da aplicação.

Nome do aluno

USO DESCONTROLADO DE CELULARES DIFICULTA O APRENDIZADO NA ESCOLA

Autor: Niomar Pereira

As tecnologias fazem parte do cotidiano das pessoas desde a infância. Crianças têm acesso a smartphones, tablets, notebooks, cinema 3D, coisas impensáveis até 20 anos atrás. A geração da década de 80, por exemplo, **só teve acesso ao computador em meados dos anos 90** e, ainda assim, em equipamentos com funções muito limitadas. Qualquer celular hoje em dia tem mais recursos que os PCs da época. A situação, no entanto, se inverteu, os eletrônicos se popularizaram e o que se discute são os malefícios deste excesso de tecnologia.

Uma pesquisa realizada pela AVG Technologies no ano passado com famílias de todo o mundo - publicada no portal Sempre Família - mostrou que 66% das crianças entre 3 e 5 anos de idade conseguiam usar jogos de computador, 47% sabiam como usar um smartphone, mas apenas 14% eram capazes de amarrar os sapatos sozinhas. No caso das crianças brasileiras, o levantamento apontou que 97% entre 6 e 9 usam a internet e 54% têm perfil no Facebook. O que muitos especialistas questionam é o impacto no desenvolvimento das crianças e adolescentes, especialmente no que se refere ao aprendizado.

A psicóloga Taise Signorini, coordenadora do curso de Psicologia da Unipar, afirma que é difícil ignorar a importância da tecnologia. "Alguns autores passaram inclusive a usar o termo 'infância midiática' para definir o que vivemos. Em se tratando do impacto, diria efeito, de tudo isso para as crianças, é importante ressaltar que a globalização tecnológica precisa se voltar a nosso favor, ou seja, todo este 'espetáculo' veiculado hoje deve ser absorvido pela família e transmitido às crianças de uma forma razoável, para que possam, por sua vez, experimentar tudo isso sem muito estranhamento." Ela observa que as relações maternas e paternas devem ser mantidas e não podem ser substituídas pelos meios eletrônicos.

Taise reforça que os pais precisam estabelecer limites e também utilizar recursos que se aproximem de aspectos tecnológicos, otimizando o favorecimento do diálogo no processo de ensino e aprendizagem. No âmbito escolar, ela acha importante a adoção de novas estratégias em sala de aula para que a capacidade de assimilar as tecnologias pelos alunos seja explorada com eficiência. "É um recurso possível diante do que se percebe como cenário atual, ou seja, os professores devem tentar usar esses recursos como complementares e não mais como possíveis 'vilões' da educação."

A professora Roseli de Jesus acredita que há falta de orientação aos adolescentes para o uso das tecnologias. "Com turmas superlotadas fica difícil para o professor, mesmo com as melhores intenções, monitorar a turma de que realmente estão usando esses aparelhos pedagogicamente. Hoje, os celulares, cada vez mais modernos, que permitem o acesso a Facebook e aplicativos, tiram o foco facilmente do que está sendo ensinado", entende.

A professora ressalta que é necessário inserir uma disciplina específica que contemple formas de se aproveitar melhor as tecnologias. "As redes sociais são boas sim, mas no momento de estudos precisam ser deixadas de lado. E estudar usando as tecnologias também **pode se tornar um lazer** inclusive usando as redes sociais para este fim."

Disponível em: <http://www.jornaldebetrato.com.br/noticia/232707/uso-descontrolado-de-celulares-dificulta-o-aprendizado-na-escola>. - Texto adaptado para fins pedagógicos - Acesso em: 18 de outubro de 2023.

TEXTO 2



**PROIBIDO O USO
DE CELULAR**

**Lei nº 4734
04/01/2008**

**PROÍBE A UTILIZAÇÃO DE TELEFONE
CELULAR E OUTROS EM SALA DE AULA**

Art. 1º Fica proibido o uso de telefone celular, games, ipod, mp3, equipamento eletrônico e similar em sala de aula.

Parágrafo Único - Quando a aula for aplicada fora da sala específica, aplica-se o princípio desta Lei.

Disponível em: <https://dicasdelei.blogspot.com/2019/07/lei-de-uso-de-celular-na-escola.html>

- 1- Assinale a alternativa que apresenta a finalidade do TEXTO 1
 - a) Apresentar a opinião do autor sobre o uso de celular na escola.
 - b) Informar o leitor de forma objetiva, com a citação de especialistas e dados estatísticos, sobre o uso de celular na escola.
 - c) Apresentar um assunto de forma detalhada sobre o uso de celular na escola.
 - d) Criticar de forma subjetiva, com a citação de especialistas e dados estatísticos, sobre o uso de celular na escola.

- 2- A trecho em destaque contido no primeiro parágrafo do TEXTO 1 indica
 - a) Uma ação habitual no passado.
 - b) Uma ação pontual ocorrida e concluída no passado.
 - c) Um fato incerto ou condição para que outro fato ocorra no passado.
 - d) Uma ação passada ocorrida antes de outra ação também no passado.

- 3- No trecho “proíbe a utilização de telefone celular e outros em sala de aula.” contido no TEXTO 2 podemos afirmar que o sujeito
 - a) É desinencial, pois possui apenas um núcleo.
 - b) É indeterminado, pois possui dois núcleos do sujeito.
 - c) É desinencial, pois o núcleo não vem explícito, mas consegue identificá-lo.
 - d) É indeterminado, pois não vem explícito na oração.

Leia o trecho a seguir contido no TEXTO 1 para responder as questões 4 a 9.

Hoje (1), os celulares, cada vez mais modernos, que permitem o acesso a Facebook e aplicativos, tiram o foco (2) facilmente do que está sendo ensinado”, entende.

- 4- O vocábulo FACILMENTE, em uso no trecho apresenta circunstância de
 - a) Afirmação
 - b) Modo
 - c) Intensidade
 - d) Causa



- 13- No trecho “As redes sociais são boas sim” podemos afirmar que
- O predicado é nominal, pois possui verbo de ligação e predicativo do sujeito.
 - O predicado é verbal, pois o possui verbo é significativo e não contém predicativo do sujeito.
 - O predicado é verbo-nominal, pois verbo é significativo e contém predicativo do sujeito.
 - O predicado é verbo-nominal, pois verbo é significativo e não contém predicativo do sujeito.
- 14- As informações sobre estrutura do verbo estão coerentes, exceto em
- As desinências indicam a pessoa, o número, o tempo e o modo verbal.
 - Radical é a parte do verbo que contém a maior significação de um verbo.
 - As desinências verbais indicam apenas o tempo e o modo verbal.
 - A vogal temática indica a conjugação a que o verbo pertence.
- 15- No TEXTO 2 o verbo PROIBE possui o tom criado pelo imperativo de
- Possibilidade
 - Ordem
 - Orientação
 - Pedido
- 16- Quanto ao gênero, respectivamente, os TEXTOS 1 e 2 são
- Reportagem e cartaz.
 - Editorial e anúncio.
 - Notícia e cartaz.
 - Reportagem e anúncio.
- 17- Na frase “As tecnologias **fazem** parte do cotidiano das pessoas” o verbo em destaque permite concluir que se trata de
- Uma ação no pretérito, ou seja, ocorreu antes do momento da fala.
 - Uma ação no presente, ou seja, ocorre no momento da fala.
 - Uma ação no futuro, ou seja, que ocorrerá depois do momento da fala.
 - Uma ação no presente, ou seja, que ocorre antes do momento da fala.
- 18- Assinale a alternativa que indica o objetivo do TEXTO 2
- Estimular o público alvo ao aderir à prática do uso do celular.
 - Incentivar o público alvo a manipular a prática do uso do celular.
 - Estimular o público alvo a banir a prática do uso do celular.
 - Incentivar o público alvo a persuadir a prática do uso do celular.
- 19- Sobre a classificação do predicado, é incorreto afirmar:
- Quando o núcleo do predicado for um nome (adjetivo ou substantivo), ele será chamado de predicado nominal. O predicado nominal é composto por um verbo de ligação e um predicativo do sujeito.
 - Quando o núcleo do predicado for um verbo, esse predicado será chamado de predicado verbal.
 - O predicado verbo-nominal assim é chamado por ser resultado da união de um predicado verbal com um predicado nominal.
 - No predicado verbo-nominal, o núcleo nominal apenas poderá ser representado pelo predicativo do sujeito.
- 20- Os textos desta avaliação têm em comum
- A linguagem, pois ambos utilizam a linguagem coloquial.
 - O gênero, pois ambos possuem as mesmas características formais.
 - O tema, pois ambos tratam do mesmo assunto.
 - O propósito comunicativo, pois ambos criticam a linguagem.

MATEMÁTICA

21) Se Cecília fizer uma viagem de 700Km e já tiver percorrido $\frac{3}{4}$ do percurso, quantos quilômetros falta pra chegar ao seu destino?

- a) 175 Km
- b) 525 Km
- c) 225 Km
- d) 475 Km

22) Ao abastecer seu veículo, um cliente pagou R\$ 140,00. Sabendo que o litro de combustível naquele dia custava R\$ 5,60, a quantidade de combustível colocada no veículo foi igual a:

- a) 21 litros
- b) 22 litros
- c) 25 litros
- d) 18 litros

23) Utilizando os métodos resolutivos, determine o valor de: $\frac{5}{4} + \frac{2}{3} - \frac{1}{6}$.

- a) $\frac{7}{4}$
- b) $\frac{21}{12}$
- c) $\frac{6}{1}$
- d) 10

24) Em uma disputa entre carros de corrida um competidor estava a $\frac{2}{7}$ de terminar a prova quando sofreu um acidente e precisou abandoná-la. Sabendo que a competição foi realizada com 56 voltas no autódromo, em que volta o competidor foi retirado da pista?

- a) 16ª volta
- b) 40ª volta
- c) 32ª volta
- d) 50ª volta

25) No sistema binário, o numeral $(101011)_2$ representa o número cuja expressão decimal é:

- a) 41
- b) 43
- c) 44
- d) 47

26) Em um supermercado o preço do feijão é de R\$ 9,35, o preço do arroz é de R\$ 5,75 e o preço da farinha de mandioca é de R\$ 4,08. Se forem adquiridos os três produtos e pagarmos com uma nota de R\$ 50,00, quanto se receberá de troco?



- a) R\$ 33,72
- b) R\$ 26,18
- c) R\$ 30,82



d) R\$ 34,22

27) Quantos divisores naturais tem o número 24?

- a) 6
- b) 10
- c) 8
- d) 12

28) Em uma pista circular, dois atletas partem juntos de um mesmo ponto e no mesmo sentido. Um deles completa cada volta em 48 segundos e o outro em 42 segundos. Assim, eles se encontrarão novamente no ponto de partida em:

- a) 336 segundos.
- b) 352 segundos.
- c) 340 segundos.
- d) 360 segundos.

29) Uma máquina imprime, por dia, 2400 cartazes como o do **texto 2**, funcionando durante 8 horas. Querendo aumentar a produção para 3000 cartazes, o dono da empresa deverá operar o funcionamento da máquina por:

- a) 10 horas.
- b) 11 horas.
- c) 12 horas.
- d) 13 horas.

30) Segundo uma pesquisa, 900 pessoas já abandonaram algum animal. Sabendo-se que esse número corresponde a 12% dos entrevistados, o total de entrevistados nessa pesquisa é:

- a) 6.000.
- b) 7.000.
- c) 6.500.
- d) 7.500.

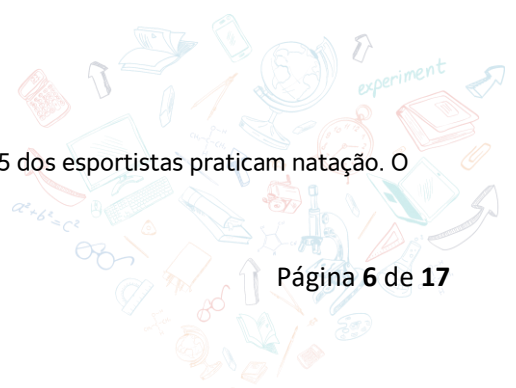
31) O grande destaque no primeiro dia de competição das Paraolimpíadas de Atenas em 2004 foi o nadador potiguar Clodoaldo Silva, que ganhou seis medalhas de ouro e uma medalha de prata. Uma das provas nas quais ele se destacou foi a dos 100m rasos. A opção que reescreve, em notação binária, a extensão dessa prova é:

- a) $(1100110)_2$
- b) $(1100100)_2$
- c) $(1100101)_2$
- d) $(1011011)_2$

32) Se 6 impressoras iguais produzem 1000 panfletos em 40 minutos, em quanto tempo 3 dessas impressoras produziram 2000 desses panfletos?

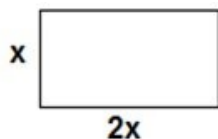
- a) 160 minutos
- b) 220 minutos
- c) 190 minutos
- d) 200 minutos

33) Uma pesquisa com 200 pessoas concluiu que $\frac{3}{4}$ delas são esportistas e $\frac{2}{5}$ dos esportistas praticam natação. O número de pessoas que praticam natação é:



- a) 40
- b) 50
- c) 60
- d) 80

34) No retângulo da imagem, o perímetro é 120 centímetros, a altura mede x e o comprimento é o dobro da altura. Qual é a medida do comprimento desse retângulo em centímetros?



- a) 20 cm.
- b) 22 cm.
- c) 30 cm.
- d) 40 cm.

35) Um ângulo com 25° , corresponde a quantos segundos?

- a) 120 000
- b) 220 000
- c) 70 000
- d) 90 000

36) Um ciclista percorre 75km em 2 dias, pedalando 3 horas por dia. O número de dias necessários para que ele faça uma viagem de 200km, pedalando 4 horas por dia, é igual a:

- a) 3 dias
- b) 5 dias
- c) 4 dias
- d) 6 dias

37) Maria foi à feira com uma certa quantia em dinheiro. Lá, ela comprou uma calça jeans por R\$ 85,00, uma sandália por R\$ 90,00, duas camisas por R\$ 25,00 cada uma e gastou 7,30 com um lanche. Sabendo que ela ainda voltou para casa com R\$ 23,70 reais no bolso, quanto Maria levou para a feira?

- a) R\$ 207,30.
- b) R\$ 231,00.
- c) R\$ 248,70.
- d) R\$ 256,00.

38) Sobre a classificação dos ângulos, marque a alternativa correta:

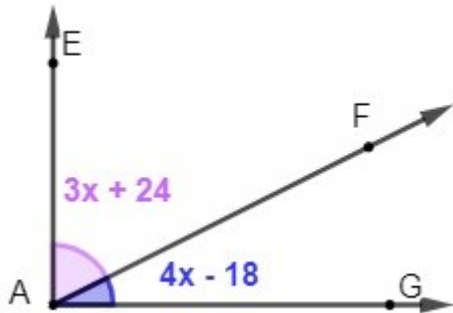
- a) Um ângulo é classificado como reto quando ele possui medida menor ou igual a 90° .
- b) Dois ângulos são complementares quando a soma deles é igual a 180° .
- c) Um ângulo é classificado como agudo quando a sua medida é menor do que 90° .
- d) Dois ângulos cuja soma é igual a 90° graus são conhecidos como ângulos obtusos.

39) Objetivando coibir as invasões em terras indígenas, os agentes de fiscalização organizaram três grupos de patrulhamento dessas terras. Considerando que o primeiro grupo passava por determinada aldeia a cada 3 dias, o

segundo grupo, a cada 4 dias e o terceiro grupo, a cada 6 dias, se os três grupos passaram nessa aldeia hoje, eles passarão, todos no mesmo dia, novamente, daqui a:

- a) 12 dias.
- b) 16 dias.
- c) 14 dias.
- d) 18 dias.

40) Sabendo que o ângulo $E\hat{A}G$ é reto, o valor do ângulo x é:



- a) 12°
- b) 30°
- c) 42°
- d) 45°

CIÊNCIAS

41. Ecologia é a ciência que estuda as relações entre os seres vivos e o ambiente em que vivem. Ela investiga a interação dos organismos entre si e com o meio ambiente, analisando os padrões de distribuição, abundância e as dinâmicas das populações, comunidades e ecossistemas. De acordo com a ecologia, **os elementos vivos de um ecossistema é denominado de:**
- a) População
 - b) Sistema biótico
 - c) Sistema abiótico
 - d) Comunidade
42. De acordo com a ecologia o conjunto formado pelo meio biótico, bem como as interações que eles estabelecem com o ambiente, é denominado de:
- a) Fatores abióticos
 - b) Comunidade
 - c) Tundra
 - d) Ecossistema
43. A classificação dos seres vivos é importante porque permite organizar e categorizar a diversidade da vida, facilitando o estudo, compreensão e comunicação sobre os diferentes organismos. De acordo a classificação biológica que agrupa os seres vivos em categorias hierárquicas, **marque a alternativa correta que representa essa classificação, NA ORDEM.**
- a) Reino, filo, classe, ordem, família, gênero e espécie
 - b) Reino, filo, classe, família, ordem, gênero e espécie
 - c) Espécie, gênero, família, ordem, classe e gênero
 - d) Espécie, gênero, família, classe, ordem e gênero
44. Qual é a principal função do nome científico dos seres vivos?



- a) Identificar a espécie de forma universal.
- b) Facilitar a identificação das famílias das espécies dos seres vivos.
- c) Indicar o habitat natural do organismo.
- d) Representar o nome comum do ser vivo.

45. Os animais vertebrados desempenham um papel crucial nos ecossistemas, contribuindo para o equilíbrio ecológico. Além disso, muitos animais vertebrados são de importância econômica, fornecendo alimento, materiais e serviços ecossistêmicos essenciais para os seres humanos. Sobre os animais vertebrados, qual das seguintes características é comum aos animais vertebrados?

- a) Presença de exoesqueleto.
- b) Respiração por brânquias.
- c) Corpo segmentado.
- d) Presença de coluna vertebral.

46. Estudar sobre tipos de doenças é importante para compreender como elas afetam o corpo humano, suas causas, sintomas e formas de prevenção. Isso permite que as pessoas adotem medidas para proteger sua saúde, tomem decisões informadas e busquem tratamento adequado quando necessário. Sobre doenças transmissíveis, assinale a alternativa **INCORRETA**.

- a) As doenças transmissíveis são causadas por agentes estranhos ao corpo humano, como vírus e bactérias.
- b) As doenças transmissíveis podem ser transmitidas por forma direta, como por exemplo a diabetes.
- c) As doenças transmissíveis podem ser transmitidas de forma indireta, como por exemplo a covid-19.
- d) A transmissão indireta é aquela que o contágio ocorre como por exemplo, por objetos contaminados.

47. Sobre doenças transmissíveis, assinale a alternativa **INCORRETA**.

- a) As doenças transmissíveis são causadas por agentes estranhos ao corpo humano, como bactérias, vírus, fungos e protozoários.
- b) As doenças transmissíveis podem ser transmitidas de forma direta e indireta.
- c) A transmissão de forma direta ocorre pela transmissão do agente causador da doença pelo contato com ele por meio de fluidos onde esse agente esteja presente.
- d) Um exemplo de doença transmissível é o câncer de próstata, onde o agente causador é transmitido por ato sexual.

48. Qual das opções a seguir é uma doença transmissível?

- a) Asma.
- b) Diabetes.
- c) Dengue.
- d) Hipertensão.

49. Qual das alternativas a seguir representa uma doença não transmissível?

- a) Gripe.
- b) Câncer.
- c) Hepatite.
- d) Tétano.

50. A obesidade pode afetar negativamente a qualidade de vida e o bem-estar geral de uma pessoa. A obesidade pode ser causada por uma combinação de fatores, incluindo hábitos alimentares inadequados, falta de atividade física, predisposição genética, fatores ambientais e estilo de vida sedentário. De acordo com o conceito, a obesidade é:

- a) Uma doença não transmissível, de forma direta.
- b) Uma doença transmissível de forma direta.



57. Qual das seguintes opções melhor define o Absolutismo?



- a) Um sistema de governo em que o poder está concentrado nas mãos de um único governante, geralmente um rei ou rainha, com autoridade absoluta sobre o Estado e seus súditos.
- b) Um sistema de governo em que o poder é compartilhado entre várias instituições, como o monarca, a nobreza e o clero.
- c) Um sistema de governo em que o poder é exercido diretamente pelo povo, por meio de eleições e representantes.
- d) Um sistema de governo em que o poder é descentralizado, com diferentes regiões ou províncias governando-se de forma autônoma.

58. Qual foi uma das principais características do Absolutismo?

- a) Separação dos poderes executivo, legislativo e judiciário.
- b) Liberdade de expressão e de imprensa.
- c) Centralização do poder nas mãos do monarca.
- d) Participação política direta dos cidadãos.

59. Documento de 1215, assinado pelo rei inglês João sem-terra, limitava os poderes do monarca, obrigando-o a respeitar as decisões de um conselho de nobres (o futuro Parlamento). Esse documento se chamava:

- a) Constituição.
- b) Magna Carta.
- c) Carta Constituinte.
- d) Declaração.

60. Grandes extensões de terras doadas por Dom João III a alguns portugueses ricos. Como se chamava essas extensões de terras?

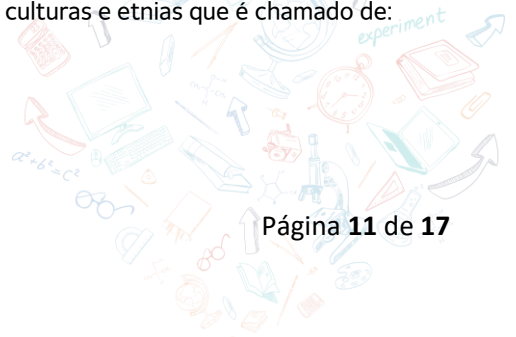


- a) Territórios.
- b) Capitânicas hereditárias.
- c) Cidades,
- d) Países.

GEOGRAFIA

61. Pela sua formação histórica, o Brasil é um país diverso cultural e etnicamente. Ao analisar a população brasileira, observa-se diversas origens culturais. Isso acontece devido a uma mistura de culturas e etnias que é chamado de:

- a) miscigenação.
- b) mistura homogenia.
- c) mistura de língua.
- d) mistura de líderes.



62. A colonização do Brasil foi o processo de chegada, invasão, ocupação e exploração do território brasileiro que foi realizado por Portugal entre os séculos XVI e XIX. Por qual motivo, a partir do século XVI, a colonização gradual do território brasileiro levou a uma diminuição no número de indígenas?

Assinale a alternativa correta:

- a) conflitos com os colonizadores e doenças.
- b) conflitos entre os próprios povos nativos.
- c) febre amarela.
- d) doença lepra.

63. Os povos africanos chegaram ao território brasileiro através de navios, esses navios vinham para o Brasil na intenção de explorar o território. Assim, assinale a alternativa que descreve a forma como esses povos chegaram para no Brasil:

- a) nos porões de navios e em péssimas condições.
- b) nos porões de navios e em ótimas condições.
- c) nos porões de navios e com boa alimentação.
- d) bem tratados e bem alimentados.

64. A grande extensão territorial do Brasil proporciona ao país, fronteira com quase todas as nações sul-americanas. Os dois países que não se limitam com o Brasil são:

- a) Uruguai e Peru
- b) Chile e Equador
- c) Bolívia e Venezuela
- d) Argentina e Chile

65. O PIB é a soma de todos os bens e serviços finais produzidos por um país, estado ou cidade, geralmente em um ano. Qual é o setor da economia que mais têm contribuído para o crescimento do PIB do Brasil?

- a) setor primário.
- b) setor secundário.
- c) setor terciário.
- d) setor agrícola.

66. Os Meios de Transporte reúnem os meios destinados ao transporte de pessoas ou de cargas, que podem ser terrestres, fluviais e aéreos. A partir da década de 1950, com interesse do governo brasileiro da época, o meio de transporte _____ se tornou predominante no território brasileiro.

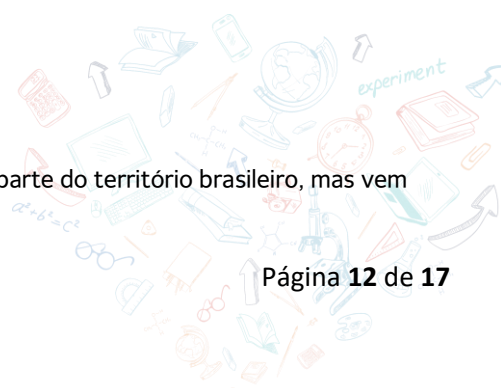
Assinale a alternativa que preenche corretamente a lacuna.

- a) ferrovias
- b) rodovias
- c) hidrovias
- d) marevias

67. As principais vegetações do Brasil são Amazônia, Mata Atlântica, Cerrado, Pantanal, Caatinga e Pampa. As vegetações do Brasil são caracterizadas mediante a diversidade geográfica presente no país. A vegetação de transição entre a Amazônia, o Cerrado e a Caatinga, conhecida pela presença abundante de árvores como o babaçu e a carnaúba, é chamada de:

- a) Mata de Galeria.
- b) Mata dos Cocais.
- c) Mata Atlântica.
- d) Floresta Boreal.

68. A Floresta Amazônica é a principal vegetação do Brasil. Ela ocupa grande parte do território brasileiro, mas vem sofrendo com a perda da sua cobertura vegetal em razão da:



- a) Existência de espécies vegetais xerófilas de alto interesse econômico.
- b) Exploração de carvão mineral em áreas de preservação permanente.
- c) Ampliação do cultivo de frutas temperadas no extremo sul amazônico.
- d) Ocorrência de desmates ilegais para a prática de atividades agrícolas.

69. Localizado principalmente na Região Centro-Oeste, esse bioma é caracterizado pela presença de pequenos arbustos e árvores retorcidas, com cascas grossas e folhas recobertas de pelos. Marque a alternativa que corresponde ao bioma que apresenta as características descritas.

- a) Mangue.
- b) Caatinga.
- c) Campos.
- d) Cerrado.

70. A Zona Franca de Manaus é uma área industrial criada pelo governo brasileiro na região amazônica. Entre os objetivos que levaram o Governo Brasileiro a instalar a Zona Franca de Manaus, podemos citar:

- a) A preocupação com as fronteiras brasileiras na região Norte e a necessidade de garantir a ocupação do território amazônico contra possíveis invasões norte-americanas.
- b) O interesse de empresas multinacionais em explorar os recursos naturais da Amazônia e consolidar a região Norte como um polo de atração de empresas de pesquisas sobre as plantas medicinais da Amazônia.
- c) Ampliar a ocupação do território da região Norte por meio da atração de empresas nacionais e estrangeiras a partir de subsídios fiscais, bem como estimular o comércio intrarregional e com as demais regiões do país.
- d) Atrair investimento internacional para as questões da preservação da biodiversidade da Amazônia e consolidar políticas de desenvolvimento sustentável na região Norte.

INGLÊS

71. Qual é a forma correta do passado simples do verbo "to be" na terceira pessoa do singular?

- a) Were
- b) Are
- c) Is
- d) Was

72. Qual é a preposição correta para completar a frase: "I have an appointment __ 2 o'clock."?

- a) in
- b) on
- c) at
- d) during


73. Qual é a frase que está na forma imperativa?

- a) She is running in the park.
- b) They will go to the beach tomorrow.
- c) Please, close the door.
- d) I have a cat.

74. Marque a alternativa que está no "past continuous tense".

- a) They were playing soccer yesterday.
- b) She sings beautifully.
- c) I go to school every day.
- d) He can swim very well.

75. Quais dos conectores é um "Linking words" de "contrast"?



- a) and
- b) but
- c) or
- d) so

76. Marque a frase que contem um verbo irregular.

- a) I played soccer last saturday.
- b) Yesterday she watched a drama movie.
- c) We took the bus to school.
- d) You studied a lot for this exam.

77. Sobre os verbos Can e Could. Complete a frase usando a forma correta.

“Jack was very strong when he was young. He _____ even lift a car.”

- a) could
- b) can
- c) couldn't
- d) can't

78. Her friends can jump into the water but Clara _____, because she is afraid.


- a) could
- b) can
- c) couldn't
- d) can't

79. Qual das seguintes frases usa corretamente um Object Pronoun para expressar “Ela ama ele”?

- a) She love he.
- b) She loves him.
- c) She loves his
- d) She love hims.

80. Qual das frases usa corretamente um Linking word que expressa adição?

- a) I don't know the answer however my teacher knows.
- b) He took a shower then had breakfast.
- c) We will meet her at the restaurant, but we will not eat anything.
- d) I like to play soccer and basketball.



PRODUÇÃO TEXTUAL

TEXTO 1

Não há lei nacional sobre o uso de celular nas escolas brasileiras. Em Minas Gerais, a assembleia estadual aprovou um projeto de lei que tem como objetivo proibir a utilização de aparelhos eletrônicos em ambientes de estudo, com destaque para aparelhos celulares em salas de aula. O estado de Pernambuco, desde 2015, veda o uso do aparelho em salas de aula e bibliotecas de escolas públicas e particulares. No Rio Grande do Sul, a proibição de celulares em escolas estaduais data de 2008.

De acordo com um estudo da London School of Economics, escolas que cortaram o uso de celulares viram uma melhoria de 6,4% no desempenho dos estudantes na faixa dos 16 anos, o equivalente ao acréscimo de cinco dias ao ano letivo. “Descobrimos que não apenas o desempenho dos estudantes melhorou, mas também que alunos de rendimento pior e de faixas de renda mais baixas foram os que mais se beneficiaram”, disseram os autores do estudo à BBC.

Por outro lado, muitos reconhecem que pode haver benefícios na tecnologia quando usada de forma adequada. Segundo relatório da Unesco, “um número crescente de projetos mostrou que tecnologias móveis fornecem um excelente meio de estender oportunidades educacionais para estudantes que não têm acesso à educação de boa qualidade”.

(Camilo Rocha. “Por que a França quer banir completamente os celulares das escolas”. www.nexojornal.com.br, 12.12.2017.

TEXTO 2

A proibição do uso de celular em sala de aula é uma medida que se harmoniza com o ambiente em que o estudante está. A sala de aula é um local de aprendizagem, onde o discente deve se esforçar ao máximo para extrair do professor os conhecimentos da matéria. Nesse contexto, o celular é um aparelho que só vem dificultar a relação ensino-aprendizagem.

Por que banir o uso do celular? Ter acesso fácil ao celular faz com o que aluno tenha mais chance de distração, o que pode levar a notas mais baixas; adolescentes ainda não têm maturidade para usar nos momentos apropriados; em ambientes liberados, é muito difícil para o professor monitorar a sala toda; a distração do smartphone é muito pior do que desenhar no caderno, por exemplo, porque o aluno entra em um “universo paralelo”.

(Orlando Morando. “Celular em sala de aula: uma proibição necessária”. www.al.sp.gov.br, 22.06.2015.


ORIENTAÇÕES E CRITÉRIOS DE CORREÇÃO

Ao escrever seu texto, use caneta esferográfica de cor preta ou azul, escreva com letra legível e identifique-se apenas no local indicado. Você poderá utilizar informações presentes na prova, sem, contudo, se limitar a copiar integralmente trechos desta avaliação. Além disso, não faça desenhos e/ou marcas na Folha de Resposta da questão discursiva.

Lembre-se de que seu texto será avaliado, levando-se em consideração os seguintes critérios:

A partir da leitura dos textos contidos nesta avaliação, produza UM ARTIGO DE OPINIÃO em que se posicione sobre a seguinte questão: A PROIBIÇÃO DO USO DE CELULARES NAS ESCOLAS É A SOLUÇÃO PARA A MELHORIA DA APRENDIZAGEM DOS EDUCANDOS? Selecione e organize fatos e argumentos de maneira que contribuam para a defesa do seu ponto de vista. Assine seu texto com o pseudônimo Estudante da Sef.

- Produção do gênero textual proposto no comando da questão;
- Presença de marcas características do gênero textual solicitado;
- Uso da variedade linguística adequada ao gênero textual solicitado;
- Consistência argumentativa.



RASCUNHO DA REDAÇÃO

01	
02	
03	
04	
05	
06	
07	
08	
09	
10	
11	
12	
13	
14	
15	
16	
17	
18	
19	
20	
21	
22	
23	
24	
25	
26	
27	
28	
29	
30	

