

Processo Seletivo para Bolsas de Estudo Sociedade Educadora São Francisco

Leia atentamente as instruções seguintes:

1. Utilize apenas caneta esferográfica azul ou preta, feita em material transparente.
2. Escreva seu nome completo no local indicado nesta página.
3. Este Caderno de Questões contém 40 questões (20 de Língua Portuguesa e 20 de Matemática) numeradas de 01 a 40.
4. Para cada uma das questões objetivas são apresentadas 4 opções (a, b, c, d). Apenas uma corresponde corretamente à questão.
5. O tempo disponível para estas provas é de quatro horas.



PROCESSO SELETIVO



SOCIEDADE EDUCADORA
SÃO FRANCISCO
a melhor educação

Nome:

Para Bolsas do **2º Ano** | **Provinha 2021**

Língua Portuguesa

Leia o texto abaixo com atenção para responder as questões 01, 02, 03, 04 e 05:

Pipote

Pipote, o palhaço é muito esquisito
só vive pulando e soltando grito.
Parece que ele está meio lelé
Pipote o palhaço não para de pé.

Gi Barbosa

Marque correspondente de acordo com o texto:

01- Quem é Pipote?

- (a) É um malabarista.
- (b) É um trapezista.
- (c) É um palhaço.
- (d) É um mágico.

02- O que Pipote vive fazendo?

- (a) Ele vive fazendo mágicas.
- (b) Ele vive pulando e soltando grito.
- (c) Ele vive rolando.
- (d) Ele vive dormindo.

03- Como parece que Pipote está?

- (a) Pipote está meio chulé.
- (b) Pipote está meio pelé.
- (c) Pipote está meio triste.
- (d) Pipote está meio lelé.



04- O que Pipote não para de fazer?

- (a) Pipote não para de pular.
- (b) Pipote não para de pé.
- (c) Pipote não para de correr.
- (d) Pipote não para de chorar.

05- Como Pipote é?

- (a) Pipote é um palhaço muito esquisito.
- (b) Pipote é um palhaço muito triste.
- (c) Pipote é um palhaço muito chorão.
- (d) Pipote é um palhaço muito alegre.

06- Observe a imagem abaixo e assinale a alternativa correta que indicam as vogais certas para completar a palavra:



b ___ r b ___ l ___ t ___

- (a) o, o a, e
- (b) o, a, a, e
- (c) o, o, e, a
- (d) a, o, e, a

07- Observe o alfabeto abaixo e assinale a alternativa correta que indica as consoantes que estão faltando:

A b c d e f _____ h i j _____ l m
n o _____ q r s t u _____ w x y z

- (a) g, k, p, v
- (b) h, k, s, t
- (c) f, k, p, w
- (d) g, k, p, z

08- Observe a imagem abaixo:



sa ____ to

Qual é a sílaba que falta para completar a palavra?

- (a) ga
- (b) pa
- (c) ba
- (d) da

09- Observe a imagem abaixo:



Qual o nome da imagem?

- (a) tuqano
- (b) tucamo
- (c) tulcano
- (d) tucano


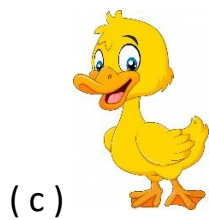
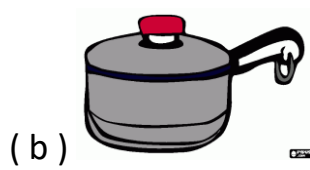
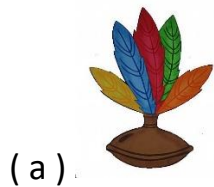
10- Assinale a alternativa correta que indica o nome da imagem abaixo:



- (a) bomeca
- (b) doneca
- (c) boneca
- (d) boneda

11- Assinale a alternativa que indica a imagem correta de acordo com a palavra abaixo:

panela




12- Observe a palavra abaixo e assinale a alternativa onde a separação da sílaba está correta:

telefone

- (a) tel – efo – ne
- (b) te – lef – one
- (c) te – le – fo – ne
- (d) te – le – f – one

13- Assinale a alternativa correta que indica o nome da imagem abaixo:


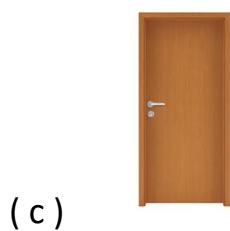



- (a) ecova
- (b) escova
- (c) escolva
- (d) escovo

14- Leia a palavra abaixo:

martelo

Qual a imagem representa o nome que você leu?



15- Observe a imagem abaixo:



ferradura

Como separamos corretamente essa palavra?

- (a) fe – rra – du – ra
- (b) fer – ra – du – ra
- (c) fer – rad – ura
- (d) fe – rr – adu – ra

16- Veja a cena abaixo:



Qual a frase que mostra o que você viu?

- (a) As crianças estão quebrando o relógio.
- (b) As crianças estão brincando com o gelo.
- (c) As crianças estão brincando com o relógio.
- (d) As crianças estão brincando com o regime.

17- Veja a palavra abaixo:

me___

Assinale a sílaba correta para completar a palavra:

- (a) ssa
- (b) sa
- (c) za
- (d) xa



18- Observe a imagem abaixo:



Assinale a frase que mostra o que está acontecendo na imagem:

- (a) Os meninos estão jogando bola.
- (b) Os meninos estão chorando.
- (c) Os meninos estão brincando de peteca.
- (d) os meninos estão jogando no celular.

19- Observe a imagem abaixo:



Como escrevemos corretamente o nome dessa imagem:

- (a) carangejo
- (b) carranguejo
- (c) caranguejo
- (d) caranguengo

20- Organize as sílabas abaixo e assinale abaixo a palavra que formou:

quei – co – ro

- (a) roqueico
- (b) queicoro
- (c) coriquei
- (d) coqueiro

Matemática





21- Veja na figura as bonecas que Laís tem no seu quarto:







Assinale a alternativa correta que indica quantas bonecas Laís tem:

- (a) 10
- (b) 8
- (c) 9
- (d) 7


22- Veja a quantidade de animais de uma fazenda:

ANIMAIS DE UMA FAZENDA	
ANIMAIS	NÚMERO DE ANIMAIS
	18
	20
	15
	25

Assinale a alternativa correta que indica o animal que existe em menor quantidade:

- (a) 
- (b) 
- (c) 
- (d) 

23- Veja a quantidade de carrinhos de Pedro.



Assinale a alternativa correta que indica a mesma quantidade de carrinhos:

- (a)
- (b)
- (c)
- (d)

24- Observe a quantidade de balões de João:



Estouraram alguns balões e ele ficou só com 4, quantos balões estouraram?

- (a) 3
- (b) 6
- (c) 4
- (d) 5

25- Léo começou um jogo com 27 figurinhas, mas depois de algumas rodadas, perdeu 13 figurinhas. Com quantas figurinhas Léo ficou?

- (a) 13
- (b) 14
- (c) 12
- (d) 15

26- Luana está lendo um livro que tem 35 páginas. Ela já leu 12 páginas. Quantas páginas faltam para Luciana terminar de ler o livro?

- (a) 23
- (b) 25
- (c) 24
- (d) 21

27- Da caixa com 15 bombons que Diana ganhou, restam apenas 6.

Quantas balas Diana comeu?

- (a) 6
- (b) 8
- (c) 7
- (d) 9

28- Veja os lápis de Ana:







Ana deu 6 desses lápis a sua irmã. Com quantos lápis Ana ficou?

- (a) 6
- (b) 5
- (c) 7
- (d) 4

29- Paula desenhou um triângulo em seu caderno.

Assinale a alternativa correta que indica a figura que Paula desenhou:

- (a) 
- (b) 
- (c) 
- (d) 

30- Veja as crianças brincando de “Ciranda-Cirandinha” no recreio da escola



Qual figura geométrica lembra o formato dessa brincadeira?

- (a) triângulo
- (b) quadrado
- (c) círculo
- (d) retângulo

31- Veja a posição dos corredores de uma maratona:



Em que posição está **TIAGO**?

- (a) 4º lugar
- (b) 3º lugar
- (c) 2º lugar
- (d) 5º lugar

32- Observe a ilustração que mostra a fila no ponto de ônibus:



Assinale a alternativa correta que mostra em que posição está a pessoa mais alta da fila:

- (a) 5º lugar
- (b) 2º lugar
- (c) 3º lugar
- (d) 7º lugar

33- Bia tem um aquário com 8 peixes. O pai de Bia trouxe mais 5 peixes. Com quantos peixes Bia ficou?

- (a) 12
- (b) 14
- (c) 11
- (d) 13

34- Melina e Caio colecionam selos. Melina tem 12 selos e Caio tem 13. Quantos selos eles têm juntos?

- (a) 24
- (b) 25
- (c) 15
- (d) 23



35- Fábio coleciona dinossauros. Ele tem 15 dinossauros em uma prateleira.



No dia do seu aniversário Fábio ganhou mais 5 dinossauros. Com quantos dinossauros Fábio ficou?

- (a) 21
- (b) 19
- (c) 20
- (d) 18

36- A professora Daiane corrigiu 9 provas de Português e 9 provas de Matemática. Quantas provas ao todo a professora corrigiu?


- (a) 20
- (b) 17
- (c) 16
- (d) 18

37- Paulo tinha 8 carrinhos e ganhou mais 10 carrinhos do seu tio. Com quantos carrinhos Paulo ficou?

- (a) 16
- (b) 18
- (c) 17
- (d) 19







38- Observe a imagem abaixo:



O que está na mão direita da menina?

- (a) bola
- (b) flor
- (c) carro
- (d) peteca

39- Assinale a alternativa que indica o lápis mais grosso:

- (a) 
- (b) 
- (c) 
- (d) 

40- Observe a imagem abaixo:



Qual brinquedo está fora da caixa?

- (a) o patinho
- (b) o carrinho
- (c) o ursinho
- (d) a bola